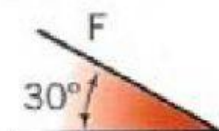
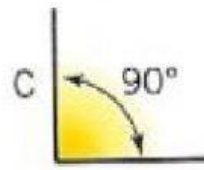
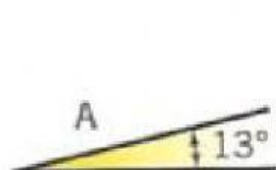


ÁNGULOS COMPLEMENTARIOS Y SUPLEMENTARIOS

Dos ángulos son **complementarios** cuando su suma es un ángulo recto (90°).

Dos ángulos son **suplementarios** cuando su suma es un ángulo llano (180°).

10.- Encuentra, entre estos ángulos, dos parejas de complementarios y otras dos de suplementarios.



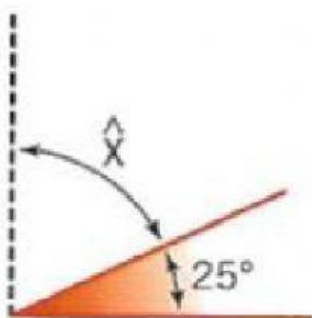
Ángulo complementario:

Ángulo suplementario:

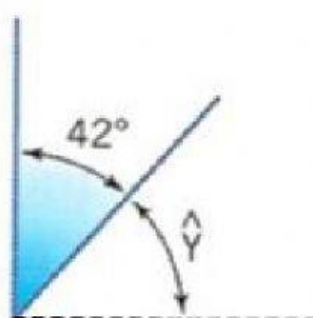
Ángulo complementario:

Ángulo suplementario:

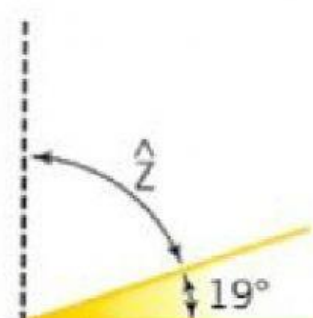
11.- Calcula la medida del ángulo complementario en cada caso



X=

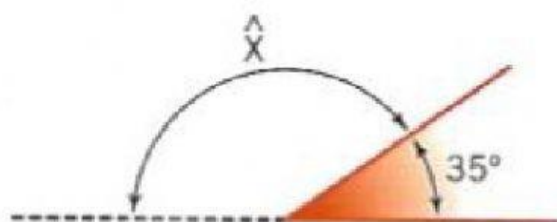


Y=

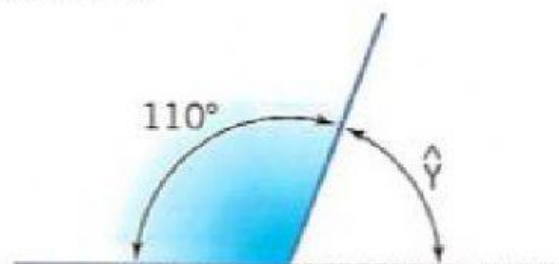


Z=

12.- Calcula la medida de los ángulos suplementarios a estos:



X=



Y=