

Nombre: _____ Grado y Grupo: _____

Fecha: _____ Prof. Brenda Figueroa Villalba

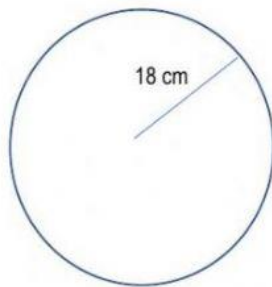
Tema: Área y Circunferencia

Fórmulas: $C = \pi d$; $C = 2\pi r$; $d = \frac{C}{\pi}$; $A = \pi r^2$. Asuma que el valor de π , es de 3.14.

También, asuma que el apóstrofo (') es sinónimo de punto decimal. Redondea a la centésima de ser necesario.

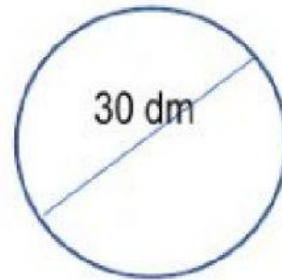
I. INSTRUCCIONES. Halla el área de cada uno de los siguientes ejercicios.

1.



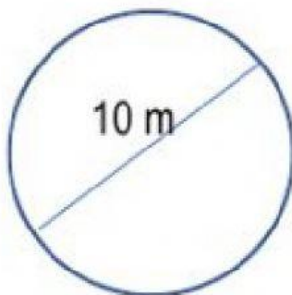
A = _____ cm²

2.



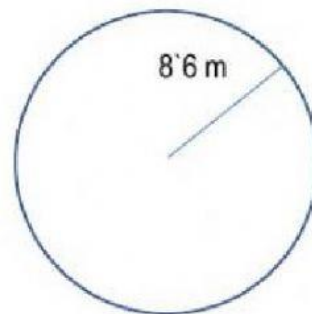
A = _____ dm²

3.



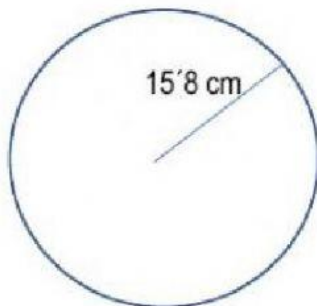
A = _____ m²

4.



A = _____ m²

5.



A = _____ cm²

6.



A = _____ m²