





















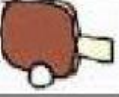






GRÁFICO DE BARRAS (LLAMOJA)

1. Cuenta los juguetes preferidos por los estudiantes del 6to D y completa el cuadro.

						
						
						
Juguete						
Conteo de palotes						
En Números						

2. Ahora, en la gráfica, colorea un cuadradito por cada juguete que contaste.

