

Nombre: _____

Grado: Tercero “A”

Profesor: Adriana Alvarado T.

Fecha: _____

Prueba de Diagnóstico Matemática

1. UBICA EN LA TABLA POSICIONAL LAS SIGUIENTES CANTIDADES.

	Unidades de mil	Centenas	Decenas	Unidades
1				
2				
3				
4				
5				

2. UNE CADA NÚMERO CON SU DESCOMPOSICIÓN CORRESPONDIENTE.

C	D	U
4	1	8

C	D	U
4	6	8

C	D	U
4	3	8

$$400 + 60 + 8$$

$$400 + 30 + 8$$

$$400 + 10 + 8$$

3. ESCRIBE EL NÚMERO QUE SE REPRESENTA CON LA BASE 10.

1. 

Centenas	Decenas	Unidades

El número es _____.

2. 

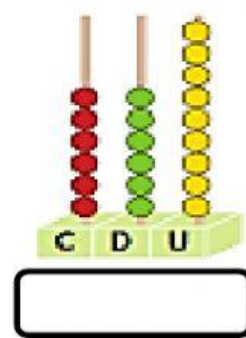
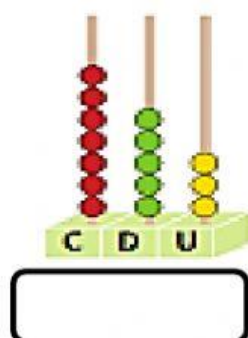
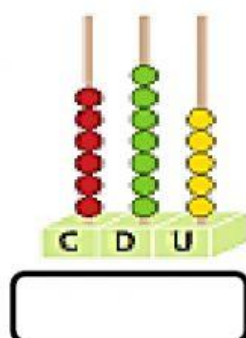
Centenas	Decenas	Unidades

El número es _____.

4. ESCRIBE EN LETRA LOS SIGUIENTES NÚMEROS.

189	
526	
90	

5. CUENTA LAS ESFERAS Y ESCRIBE QUÉ NÚMERO SE REPRESENTA EN EL ÁBACO.



6. RESUELVE LAS SUMAS SIMPLES.

$$\begin{array}{r} 301 \\ + 255 \\ \hline \end{array}$$

$$\begin{array}{r} 707 \\ + 182 \\ \hline \end{array}$$

$$\begin{array}{r} 314 \\ + 231 \\ \hline \end{array}$$

7. RESUELVE LAS RESTAS SIMPLES.

$$\begin{array}{r} 375 \\ - 102 \\ \hline \end{array}$$

$$\begin{array}{r} 978 \\ - 832 \\ \hline \end{array}$$

$$\begin{array}{r} 671 \\ - 560 \\ \hline \end{array}$$

8. COMPLETA LA SECUENCIA, GUIANDOTE POR EL PATRÓN.

		+2	+2	+2	+2	+2	+2	+2	+2	+2	+2
4	6										