





I SERIE

Resuelve el siguiente Crucigrama de Sumas y restas. Coloca los números que hacen falta.





4 - 2 =									
+					-				
					1				
=					=				
	-	7	=	2		+	8	=	
				+					-
					+	6	=		6
				=					=
	-	5	=			-		=	5
-					+		=		
1					3	-		=	
=					=				
8				9	-		=		+
				-					5
									=
				=					
3	+	3	=			+	5	=	
						-	4	=	

## II SERIE

Convierte los siguientes números mayas en números decimales.  
Recuerda Utilizar tu cuaderno para realizar la operación. Coloca los resultados en la casilla amarilla y el gran total en la casilla Verde.



### III SERIE

Resuelve las siguientes cantidades escritas en Números Romanos.

1. DCCLXXII

2. MMCMXCIX

3. CDXLIV

4. MCCCXLIV

5. CXXXVI

#### IV SERIE

Observa las siguientes cantidades, el número que se encuentra en Rojo es el que debes de aproximar (Recuerda la regla al momento de aproximar) y escribe la cantidad correcta en el recuadro rosado.

	<div>1560</div>	
<div>1600</div>		<div>2000</div>
<div></div>		
<hr/>		
	<div>2932</div>	
<div>3000</div>		<div>2900</div>
<div></div>		
<hr/>		
	<div>6386</div>	
<div>6380</div>		<div>6390</div>
<div></div>		

### V SERIE

Realiza las siguientes sumas en el cuaderno y coloca la respuesta correcta en el recuadro amarillo.

$$\begin{array}{r} 493 \\ + 732 \\ \hline \end{array}$$

$$\begin{array}{r} 428 \\ + 431 \\ \hline \end{array}$$

$$\begin{array}{r} 345 \\ + 634 \\ \hline \end{array}$$

$$\begin{array}{r} 288 \\ + 707 \\ \hline \end{array}$$