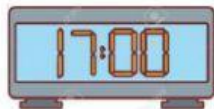
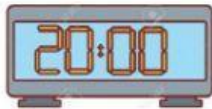
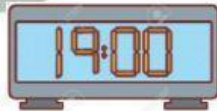




MEDIMOS EL TIEMPO



Acuérdate de **sumar doce** al número que pone en la hora.
Por ejemplo: $12 + 1 = 13$ horas



| | |
|--|------------------|
| | ← Es la una |
| | ← Son las dos |
| | ← Son las tres |
| | ← Son las cuatro |
| | ← Son las cinco |
| | ← Son las seis |
| | ← Son las siete |
| | ← Son las ocho |
| | ← Son las nueve |
| | ← Son las diez |
| | ← Son las once |
| | ← Son las doce |