



Aritmatika Sosial

Pertemuan 3

KELAS
VII


NAMA :

KELAS :

DISUSUN OLEH
Nurul Khuzaimah




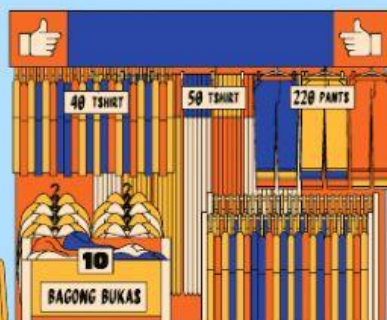

BIG
SALE



75%
OFF



50%
OFF



Tujuan Pembelajaran



Peserta Didik dapat
Mengenal hubungan
antara Diskon, Bruto,
Tara dan Netto dengan
benar

1

Peserta Didik dapat
Menganalisis harga
Diskon suatu barang
dengan benar

2

Peserta Didik dapat
Menentukan Bruto, Tara
dan Netto dengan benar

3

Peserta Didik dapat
Menyelesaikan
permasalahan yang
berkaitan dengan
Diskon, Bruto, Tara dan
Netto dengan
benar

4



KONTRUKTIVISME



Ibu Tari membeli minyak goreng di minimarket dengan diskon 30%. Jika harga minyak goreng sebelumnya adalah Rp 25.000. Maka uang yang harus dibayarkan oleh bu Tari adalah Rp 17.500

Coba baca kembali cerita diatas

Dari cerita diatas harga minyak goreng tanpa diskon disebut harga normal dan harga minyak goreng setelah diskon disebut harga diskon

Berapa harga normal minyak goreng tersebut ?

Berapa diskon yang diberikan ?

Berapa harga minyak goreng setelah mendapat diskon ?



INQUIRI



Amati dan Lengkapilah Tabel dan tuliskan Harga Diskon di bawah ini !

Nama Barang	Harga Normal	Jumlah Diskon	Harga Setelah Disc
Sepatu	Rp 250.000	20 %	
Tas	Rp 400.000	30 %	
Baju	Rp 620.000	40 %	



BERTANYA

Tuliskan pertanyaan mengenai materi yang belum dipahami pada kolom di samping !



MASYARAKAT BELAJAR

Buatlah Kelompok Masing-masing 4-6 orang. Diskusikan Materi mengenai harga Diskon, Bruto, Tara dan Neto. Kemudian Buatlah Contoh Cerita dari harga Diskon atau Bruto, Tara dan Neto.



PEMODELAN

Peragaan Percakapan dibawah Ini !



Analisislah Bruto, Tara dan Neto dari percakapan disamping !



- A : Lihat aku membeli dua bungkus Roti
B : Mau di apakan kedua bungkus roti itu ?
A : Aku mau memperlihatkan Bruto, Tara dan Neto Sekarang aku akan membuka 1 bungkus roti dan membiarkan 1 bungkus roti lainnya.
B : Sekarang kamu punya Roti Utuh, Bungkus Roti dan Isi Roti.
A : Iyah betul sekarang coba tentukan yang mana Bruto, Tara dan Neto
B : okee

Roti Utuh

Tara

Isi Roti

Bruto

Bungkus Roti

Neto





REFLEKSI



Kesimpulan yang kamu dapat pada pembelajaran hari ini adalah



PENILAIAN OTENTIK



Kerjakanlah Latihan Berikut



Bruto

Tara

Neto

Jawablah Pertanyaan berikut dengan tepat !



1. Sebuah Toko mainan sedang mengadakan diskon 40% untuk semua item dalam rangka ulang tahun toko tersebut. Jika Rendi ingin membeli mobil remot besar dengan harga normal Rp 350.000. Maka berapa uang yang harus dibayarkan Rendi setelah mendapat diskon 40% ?
2. Seorang pedagang membeli 20 kas buah mangga. 1 kas buah Mangga dengan berat 30 kg. Jika berat Kas tempat mangga tersebut adalah 1 kg. Maka berapa berat bersih mangga tersebut ?
3. Seorang penjual kue menjual 20 keranjang kue. Pedagang tersebut memberikan diskon 20% untuk 1 keranjang kuenya. Jika harga 1 keranjang kue adalah Rp 50.000 maka tentukan berapa harga 20 keranjang kue setelah diberikan diskon 20% per 1 keranjang kue ?

THANK
YOU!

good bye

