


DIVISIONE PER RAGGRUPPARE

- 1 Leggi, raggruppa e rispondi; poi calcola.

In palestra ci sono 18 bambini. La maestra forma squadre da 6 bambini ciascuna.



Quanti bambini in tutto? _____


Quanti bambini in ogni squadra? _____

Quante squadre forma la maestra? _____

$$18 : 6 = \underline{\hspace{2cm}}$$

- 2 Raggruppa, scrivi l'operazione e rispondi.

Il gelataio ha 20 fragole; decora ogni coppa con 5 fragole.
Quante coppe decora?

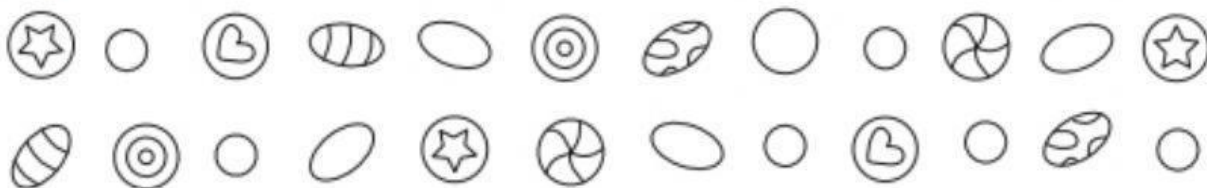


Operazione

$$\underline{\hspace{2cm}} = \underline{\hspace{2cm}}$$

Risposta _____

Alice ha 24 perle; usa 8 perle per ogni braccialetto.
Quanti braccialetti realizza?



Operazione

$$\underline{\hspace{2cm}} = \underline{\hspace{2cm}}$$