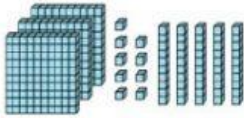
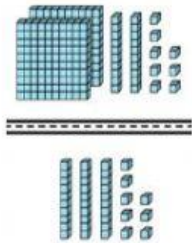


1 ¿Cuántos cubitos hay en total ?



- A) 395 B) 359 C) 593 D) 539

2 Suma para hallar el total de cubitos



+ _____

- A) 259 B) 216 C) 266 D) 259

3 ¿Cuál es el siguiente número ?




- A) 685 B) 784 C) 686 D) 687

4 Ordena los siguientes números de mayor a menor



- A) 878 – 879 – 789 – 798
B) 879 – 878 – 789 – 798
C) 879 – 878 – 798 – 789
D) 878 – 879 – 798 – 789



5 Suma:

	C	D	U
	4	2	3
+	3	7	5

- A) 808 B) 797 C) 787 D) 798

6 Suma:

	C	D	U
	3	7	4
+	2	8	9

- A) 553 B) 653 C) 663 D) 554

7 Resta

	C	D	U
	5	2	4
-	3	5	6

- A) 278 B) 257 C) 268 D) 168

8

Resta

	C	D	U
	5	7	8
-	3	5	2

- A) 226 B) 136 C) 126 D) 225

9

Resta

	C	D	U
	5	0	0
-	3	4	6

- A) 254 B) 164 C) 154 D) 156

10 Una panadería tiene 156 panes
Vende 24 panes en la mañana.
¿Cuántos panes le quedaron?

- A) 143 B) 133 C) 142 D) 132

	C	D	U
