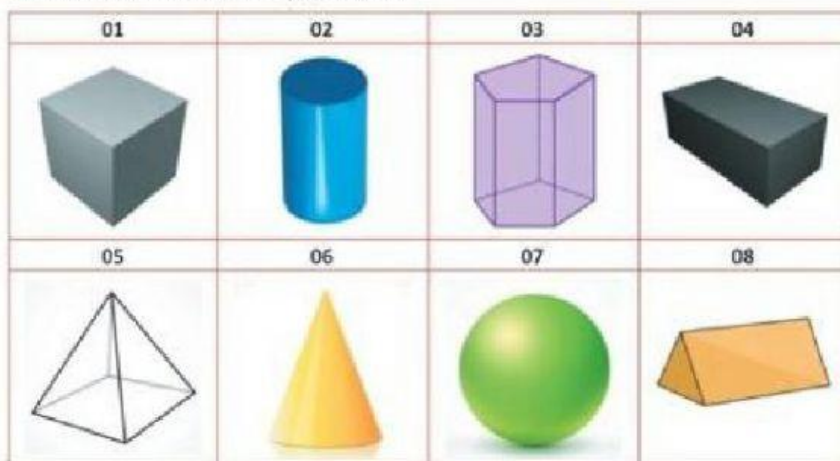


Escola:  
Aluno(a)

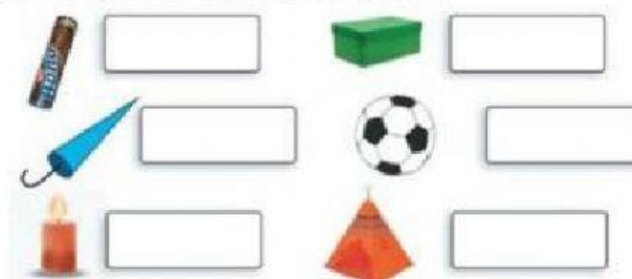
## Matemática - Atividade de Revisão

1. Cada sólido representado a seguir é identificado por um número. Use essa identificação e transcreva seus nomes no espaço abaixo.

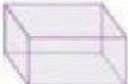










01 – \_\_\_\_\_, 05 – \_\_\_\_\_  
 02 – \_\_\_\_\_, 06 – \_\_\_\_\_  
 03 – \_\_\_\_\_, 07 – \_\_\_\_\_  
 04 – \_\_\_\_\_, 08 – \_\_\_\_\_

2. Com qual sólido geométrico estes objetos se parecem?



3. Observe a tabela.

1			
2			
3			
	A	B	C

Encontre a localização dos sólidos geométricos utilizando uma letra e um número.

Pirâmides →			Esferas →		
Cubos →			Paralelepípedos →		
Cilindros →			Cones →		