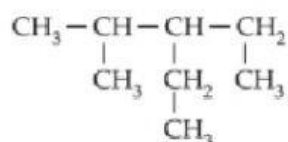




## QUIMIFIRST – NOMENCLATURA DE HIDROCARBONETOS



Agora é sua vez 1: Indique a nomenclatura oficial do composto orgânico representado a seguir

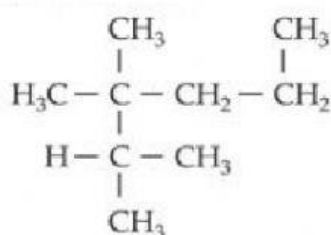


Escolha:

Agora é sua vez 2: Retirando-se um dos hidrogênios do metano e colocando-se o radical terc-butil, tem-se a fórmula do:

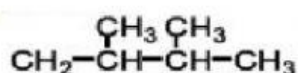
Escolha:

Agora é sua vez 3: (Vunesp-SP) O nome correto do composto orgânico de fórmula

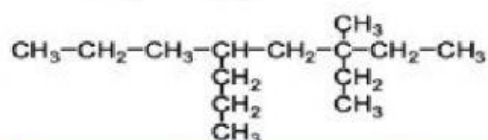


Escolha:

Agora é sua vez 4: Dê o nome segundo as recomendações da IUPAC para os hidrocarbonetos de cadeia ramificada apresentados abaixo.



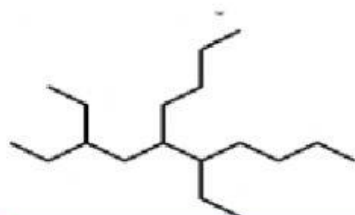
Escolha:



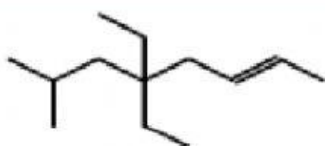
Escolha:



## QUIMIFIRST – NOMENCLATURA DE HIDROCARBONETOS



Escolha:



Escolha:



Escolha:



Escolha:



Bom Estudo!!!  
Profa. Ana (QuimicAna)