


RECTAS, SEMIRRECTAS Y SEGMENTOS.

RECTAS PARALELAS Y SECANTES.

1. Relaciona cada imagen con su nombre:

Recta



Semirrecta



Segmento



2. Completa las siguientes definiciones:

- Una _____ es una línea compuesta por infinitos puntos que se suceden en una misma dirección.

- Una _____ es una de las dos partes en las que un punto divide una recta.

- Un _____ es la parte de una recta comprendida entre dos puntos.

3. Relaciona cada imagen con su nombre.


Rectas paralelas



Rectas secantes



Rectas perpendiculares



4. Observa y di que tipo de rectas representan los dibujos.


A



B



C



5. Completa las siguientes oraciones.

- Las rectas que no se cortan nunca, por mucho que se prolongues son

.

- Si dos rectas tienen un punto en común, se llaman

.

- Dos rectas secantes que se cortan formando cuatro ángulos iguales se

llaman rectas

.

6. Marca con una X las rectas secantes.

