



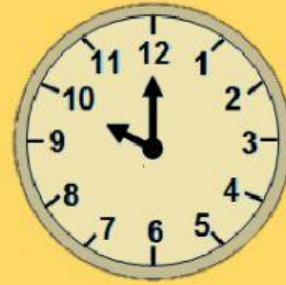


# MATEMÁTICA



ESCOLA

NOME

1. OBSERVE OS RELÓGIOS ABAIXO, CLIQUE NA SETA E SELECIONE O HORÁRIO APRESENTADO EM CADA UM DELES.



2. NA TABELA ABAIXO, ESTÁ APRESENTADO OS HORÁRIOS DE INÍCIO E FIM DO RECREIO, NO TURNO DA MANHÃ, NA ESCOLA "BOM SABER".

Início do Recreio	Término do Recreio
10 : 15	10 : 45

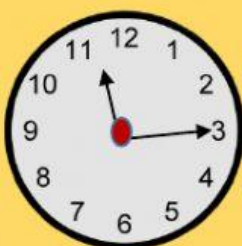
QUAL O TEMPO DE DURAÇÃO DO RECREIO?

- A) 15 MINUTOS
- B) 20 MINUTOS
- C) 30 MINUTOS
- D) 45 MINUTOS

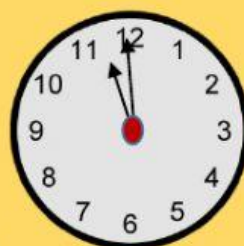
3. OBSERVE O RELÓGIO DIGITAL ABAIXO:



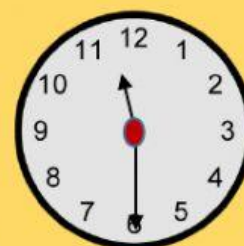
QUAL RELÓGIO ESTÁ APRESENTANDO O HORÁRIO INDICADO NO RELÓGIO DIGITAL?



A)



B)



C)