


Pengukuran panjang

A. Mengukur panjang Benda dengan satuan Baku

Untuk mengukur dengan alat ukur baku seperti **Penggaris** atau **Meteran**



Penggaris



Meteran kain



Meteran rol kecil



Meteran rol besar

Satuan panjang pada penggaris adalah **sentimeter** biasa ditulis **cm**.

Dan satuan panjang pada meteran adalah **meter** biasa ditulis **m**.

Semua diukur dimulai dari angka nol (0)

Perlu diingat bahwa
 $1 \text{ m} = 100 \text{ cm}$

Penggaris bermacam-macam biasanya ada yang 10 cm sampai 100 cm



Meteran kain biasanya digunakan untuk mengukur panjang kain atau pakaian. Meteran ini biasa digunakan oleh penjahit

Meteran rol kecil digunakan untuk mengukur panjang kayu

Meteran rol besar digunakan untuk mengukur panjang tanah atau lapangan

Ayo berlatih !

1. Pasangkanlah gambar dengan kegunaannya !

Tuliskan huruf (a, b, c atau d) pada kotak yang disediakan yang sesuai dengan gambar dan kegunaannya !




Meteran kain

a. Untuk mengukur panjang yang biasanya hanya 10 - 100 cm



Meteran rol kecil

b. Untuk mengukur panjang kain



Penggaris


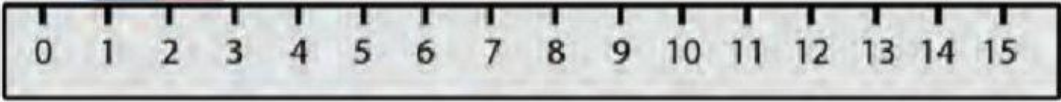

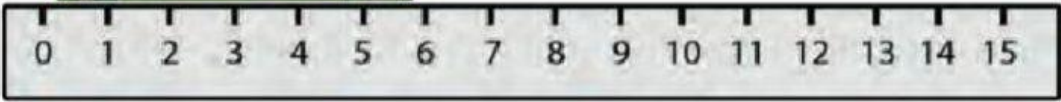




c. Untuk mengukur panjang tanah atau lapangan



Meteran rol besar

d. Untuk mengukur panjang kayu

2. Tuliskan Panjang benda-benda berikut!

		<input type="text"/>	cm
		<input type="text"/>	cm
		<input type="text"/>	cm
		<input type="text"/>	cm

3. Kerjakanlah soal-soal berikut !

a. Panjang pensil 14 cm.

Panjang crayon 12 cm

Benda apakah yang lebih panjang ? (*Tuliskan nama benda yang lebih panjang!*)

b. Panjang tali merah 2 meter.

Panjang tali biru 5 meter.

Berapa panjang kedua tali? (*Hitunglah!*)