

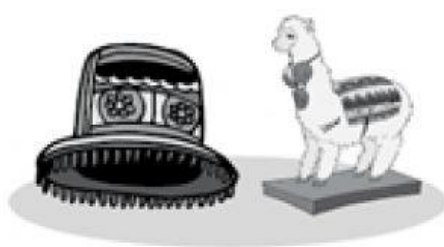


Resolvemos problemas

Observa las artesanías que se ofertan en la tienda. Luego, resuelve cada situación



a) Una señora compra la llamita y el sombrero. ¿Cuánto paga?



Paga S/. _____

b) Un turista compra dos retablos y una cerámica. ¿Cuánto debe pagar?



Debe pagar S/. _____

c) Don Tomás compra dos llamitas y paga S/. 250. ¿Cuál será su vuelto?



250	

Su vuelto será S/.

d) Doña Inés compra un sombrero y paga con 2 billetes de S/. 50. ¿Cuál será su vuelto?



Su vuelto será S/.
