

Matematika

PENGOLAHAN DATA

LATIHAN SOAL

NAMA:

KELAS:



Isilah dengan jawaban yang tepat !

Perhatikan tabel berikut untuk menjawab soal nomer 1 dan 2

Data warna kesukaan Siswa kelas 4

Warna	Banyak Siswa
Merah	12
Hijau	8
Biru	10
Kuning	5
Ungu	7
Orange	8

1. Warna yang paling banyak disukai siswa kelas 4 adalah

2. Jumlah siswa yang menyukai warna hijau dan kuning adalah



3. Perhatikan data berat badan (dalam kg) beberapa siswa kelas 4 pada tabel berikut !

Berat badan (kg)	Banyak Siswa
35	5
36	7
37	6
38	6
39	3
40	4


Selisih banyak siswa yang berat badannya 36 kg dan 39 kg adalah



4. Berikut adalah data banyak siswa SD pelangi

Kelas	Banyak Siswa
1	32
2	35
3	30
4	36
5
6	34

Jika banyaknya seluruh siswa SD Pelangi adalah 200 orang, banyak siswa kelas 5 adalah



5. Perhatikan data hasil panen jagung di Desa Subertani pada tabel berikut !

Tahun	Hasil Panen(ton)
2011	12
2012	10
2013	15
2014	13
2015	8

Jumlah seluruh hasil panen jagung dari tahun 2011 - 2015 adalah

ton



Perhatikan tabel berikut untuk menjawab soal nomer 6 dan 7 !

Data Banyak Pengunjung
Perpustakaan Selama Seminggu

Hari	Banyak pengunjung
Senin	65
Selasa	40
Rabu	52
Kamis	60
Jum.at	45
Sabtu	36

6.Selisih banyak pengunjung perpustakaan pada Rabu dan Sabtu adalah

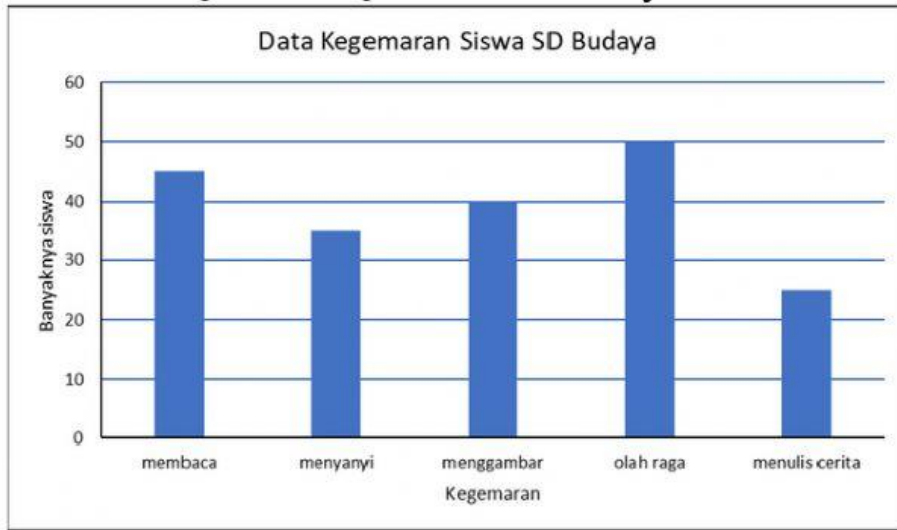
Orang

7. Jumlah seluruh pengunjung perpustakaan selama seminggu adalah

Orang



Perhatikan diagram batang berikut untuk menjawab soal no.8-10 !

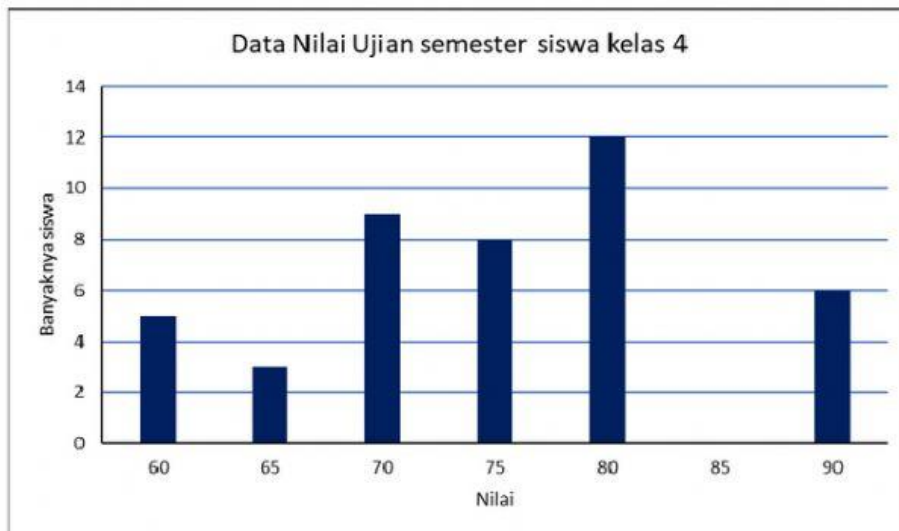


8. Sebanyak 35 orang siswa gemar

9. Selisih banyak siswa yang gemar membaca dan menulis cerita adalah

10. Jumlah seluruh siswa tersebut adalah Orang

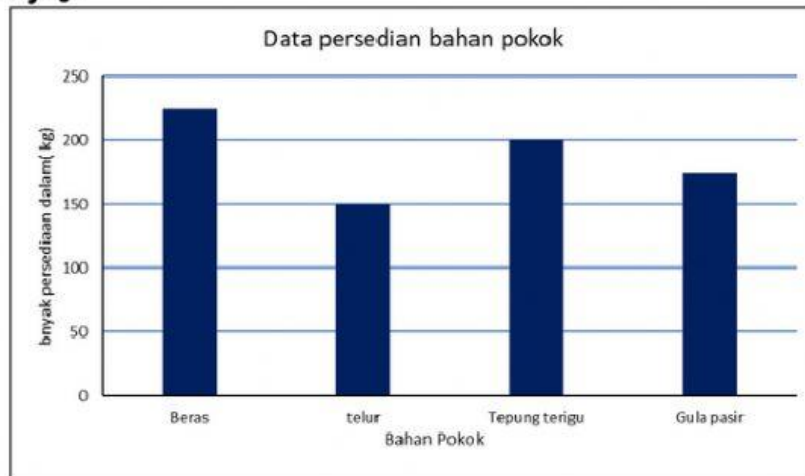
11. Perhatikan data nilai ujian semester siswa kelas 4 pada diagram batang berikut



Jika jumlah seluruh siswa tersebut adalah 50 orang, banyak siswa yang mendapat nilai 85 adalah

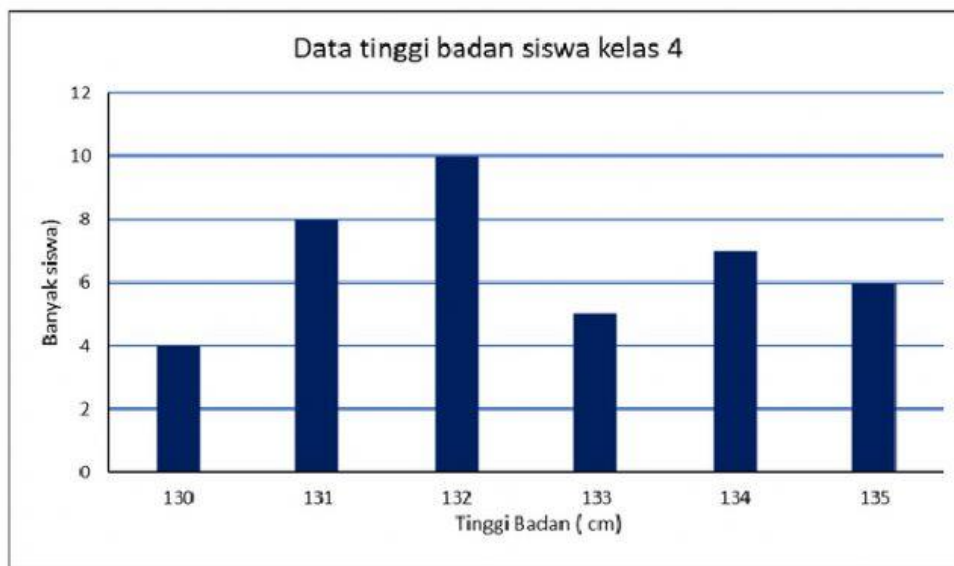


12. Diagram batang berikut menyajikan data persediaan bahan pokok di Toko sanjaya



selisih banyak persediaan bahan pokok yang paling banyak dan paling sedikit adalah

Perhatikan gambar diagram batang berikut untuk menjawab soal no 13 - 15 !



13. siswa kelas 4 paling banyak mempunyai tinggi badan cm

14. Siswa kelas 4 yang tinggi badannya paling tinggi ada orang

15. Jumlah seluruh siswa kelas 4 tersebut adalah orang

