






# МАТЕМАТИЧНИЙ ТРЕНАЖЕР 9

Задачі, сформульовані  
в непрямій формі



Розв'яжи задачу.

Задача	Розв'язання
<p>1 У Наталки 24 кольорових олівці, що на 14 олівців більше, ніж простих. Скільки простих олівців у Наталки?</p> 	○
<p>2 У клоуна 42 блакитні повітряні кульки, що на 34 штуки менше, ніж жовтих. Скільки жовтих повітряних кульок у клоуна?</p>	○
<p>3 В автосалоні 15 автомобілів, що в 5 разів більше, ніж мотоциклів. Скільки мотоциклів в автосалоні?</p> 	○

Задача	Розв'язання
<p>4 У товарного поїзда 54 вагони, що в 6 разів більше, ніж у пасажирського. Скільки вагонів у пасажирського поїзда?</p> 	○
<p>5 У спортзалі 36 футбольних м'ячів, що в 6 разів більше, ніж баскетбольних. Скільки баскетбольних м'ячів у спортзалі?</p> 	○
<p>6 У бібліотеці 8 книжок з оповіданнями, що в 3 рази менше, ніж з казками. Скільки книжок з казками в бібліотеці?</p> 	○