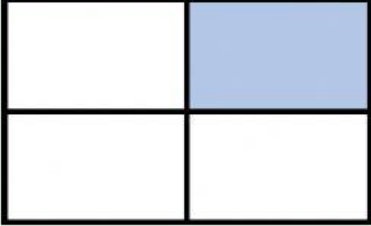


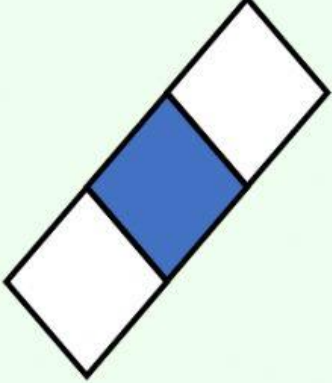


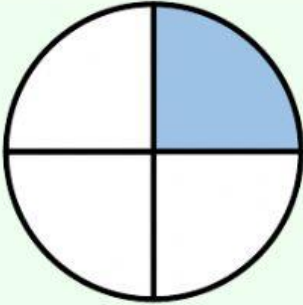

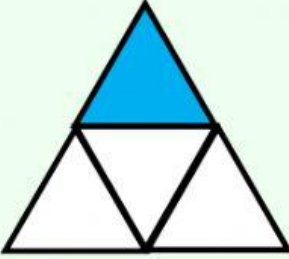
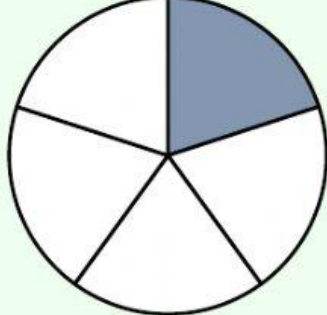
تمارين الصف الأول الابتدائي – الجزء الثاني - الفصل ١٦ : الكسور

الدرس (١٦ - ٤) : الثلث والربع

س١: أعدد جميع الأشكال التي تمثل الثلث ، ثم أعدد الكسر الصحيح:

$\frac{1}{3}$		
$\frac{1}{2}$		
$\frac{2}{3}$		

س٢: أعدد جميع الأشكال التي تمثل الربع ، ثم أعدد الكسر الصحيح:

$\frac{1}{3}$		
$\frac{1}{2}$		
$\frac{2}{3}$		

إعداد: أ. زينب جاسم