



EVALUACIÓN MENSUAL DE GEOMETRÍA

Hijo(a) del Rey: _____

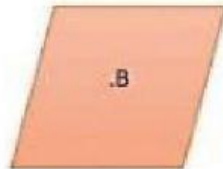
Grado: ____ Grado

Profesora : Cindy Condor Moreno

Fecha: 08/04/22

I-Coloca dentro del paréntesis el número que le corresponde.

1)



() recta

2)




() rayo

3)



() punto

4)



() plano



II-Relaciona y arrastra la respuesta correcta.






El punto Z



La recta JK



El segmento PQ



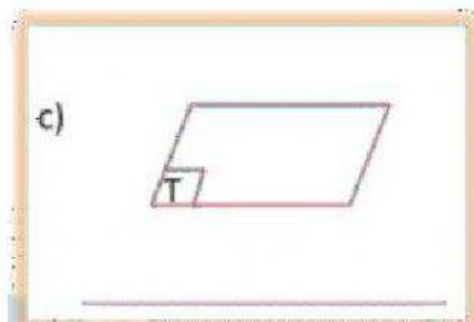


III- Observa y arrastra al lugar correspondiente.

a)



b)



Recta MN

Segmento RS

Plano T

3) Escribe el nombre de los siguientes elementos de la geometría:

a) $\bullet M$: _____

d) $\square M$: _____

b) \overrightarrow{HL} : _____

e) \overleftrightarrow{DO} : _____

c) \overleftrightarrow{RS} : _____

f) \overline{BC} : _____

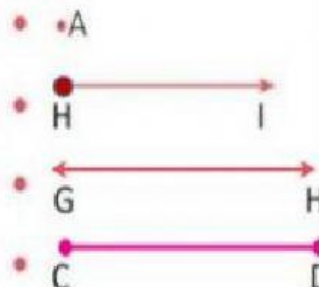
V.- Relaciona mediante líneas según corresponda:

Rayo

Recta

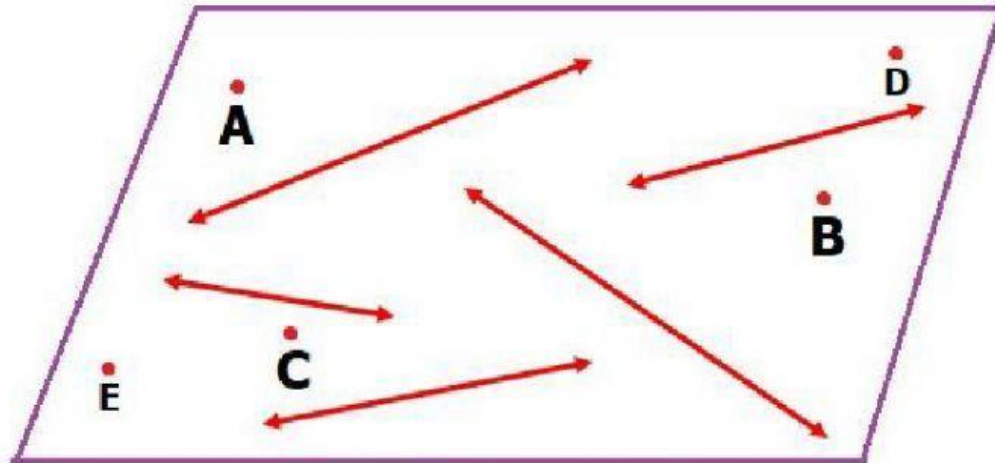
Segmento

Punto





VI. OBSERVA LA SIGUIENTE FIGURA Y RESPONDE:



✓ ¿Cuántos puntos hay?

✓ ¿Cuántas rectas hay?

VII. RELACIONA CADA RECTAS CON SU DENOTACIÓN:



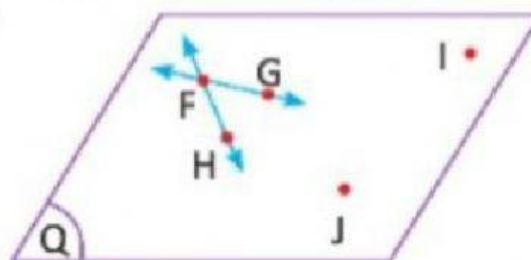
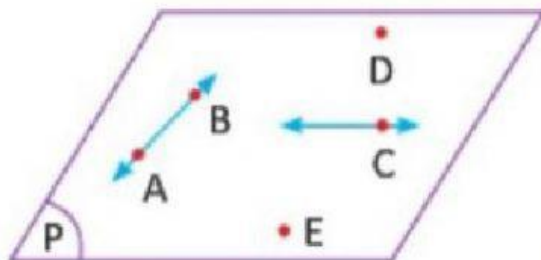
RECTA \overleftrightarrow{BC}

RECTA \overleftrightarrow{AB}

RECTA \overleftrightarrow{A}

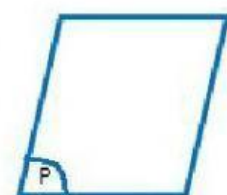
RECTA \overleftrightarrow{B}

VIII. COLOCA VERDADERO (V) O FALSO (F)



- ✓ El punto E pertenece al plano Q
- ✓ El punto J pertenece al plano Q
- ✓ El punto I pertenece al plano P
- ✓ La recta AB pertenece al plano P
- ✓ La recta FH pertenece al plano Q
- ✓ El punto F pertenece a la recta FG

IX. COLOCA LOS NOMBRES DE LOS ELEMENTOS DONDE CORRESPONDE:



PLANO

RECTA

RAYO

SEGMENTO