

# PRÁCTICO







## SELECCIONA LA RESPUESTA CORRECTA

No tiene principio ni fin.

Tiene punto de origen pero no tiene final.

Es la parte de recta limitada entre dos puntos.

## SELECCIONA EL TIPO DE LÍNEA SEGÚN CORRESPONDA

	<input type="text"/>	<input type="text"/>	
	<input type="text"/>	<input type="text"/>	
	<input type="text"/>	<input type="text"/>	

## ESCRIBE QUE TIPO DE LÍNEA ES, SEGÚN LA LÍNEA QUE SE RESALTA

		
<input type="text"/>	<input type="text"/>	<input type="text"/>
		
<input type="text"/>	<input type="text"/>	<input type="text"/>