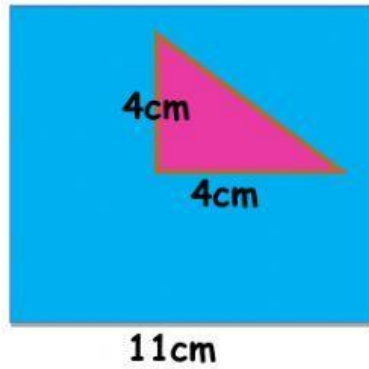




RESULTADOS
SIN ESPACIOS.
Ejemplo: 5cm²

CALCULA EL ÁREA DEL CUADRADO AZUL SIN EL TRIÁNGULO ROSA

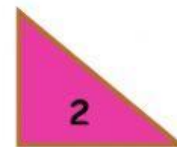


Pista:


Área figura 1 - Área figura 2 = Área del cuadrado azul



Área 1 =

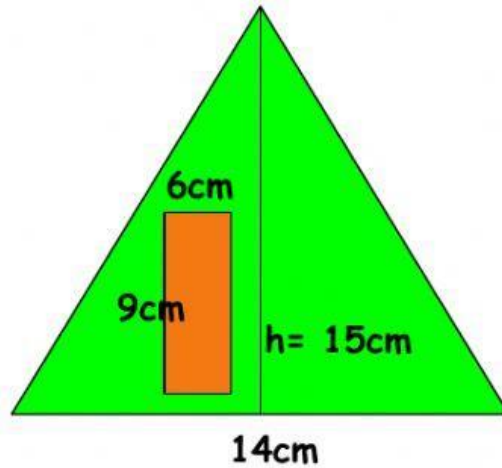


Área 2 =

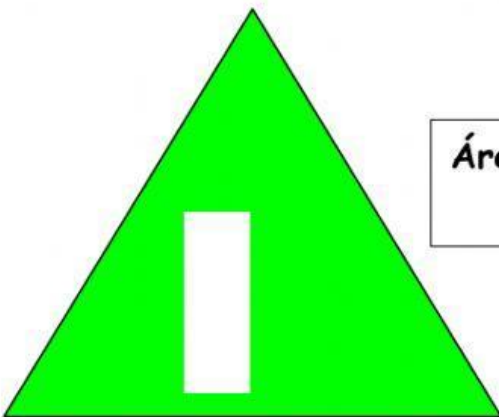


Área del cuadrado azul = Área 1 - Área 2
Área del cuadrado azul =

CALCULA EL ÁREA DEL TRIÁNGULO VERDE SIN EL RECTÁNGULO NARANJA

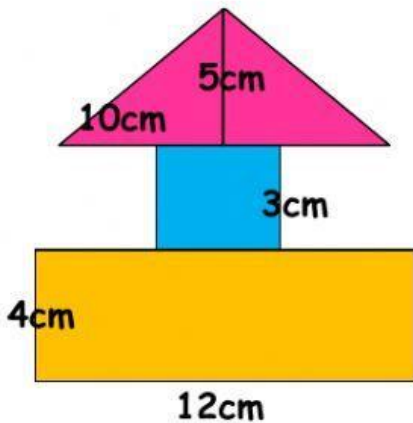


Área del triángulo=
Área del rectángulo=



Área del triángulo verde =

CALCULA EL ÁREA TOTAL DE LA SIGUIENTE FIGURA



Área triángulo=
Área cuadrado =
Área rectángulo =
Área Total =