

Unión e intersección de conjuntos

1. Une cada enunciado con la operación correspondiente.



Considera a todos los elementos de los conjuntos.

Considera solo a los elementos comunes o también llamados iguales.

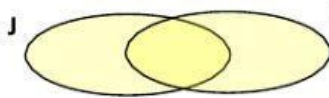
Intersección



Unión



2. Marca la operación que corresponde a la región sombreada en cada gráfica.



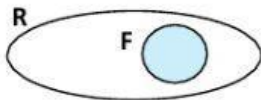
$J \cup T$

$J \cap T$



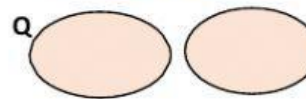
$M \cup L$

$M \cap L$



$R \cup F$

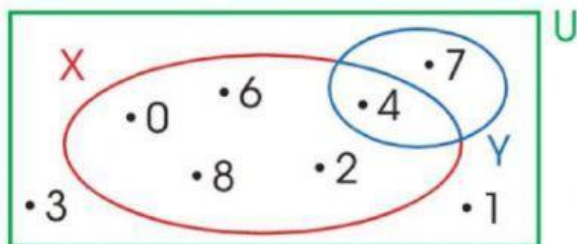
$R \cap F$



$Q \cup N$

$Q \cap N$

3. Observa los conjuntos y selecciona la respuesta correcta:



$X \cap Y =$

$X \cup Y =$

$A \cap C =$

$B \cup D =$

$D \cup A =$

$D \cap C =$

