



I.E.P. "VIRGEN DE CZESTOCHOWA"
Pj. Matucana # 2880 – Alt. Cdra. 28 Av. Perú
"Educa a tu hijo hoy para que el día de mañana te regocijes"



SIGO LA PISTA PARA COMPLETAR

David quiere completar los números que faltan en los cuadrados. Para eso tiene que descubrir la relación de los números en los casilleros.

1	2	3	4
2	5		
3	10		
4			



1	2	3	4
2	5	10	17
3	10	25	52
4	17	52	129

Sigo la pista.



- * Observamos el primer grupo de cuatro números y encontramos la siguiente relación: $1 + 2 + 2 = 5$
- * Comprobamos que se cumple la relación hallada en el siguiente grupo de cuatro números: $2 + 3 + 5 = 10$
- * Completamos el cuadro de la derecha aplicando la relación hallada.



La relación es, sumando los tres números conocidos del recuadro, hallamos el cuarto número.

¡Ahora, hazlo tú!

1. Descubre la relación entre los números y completa cada cuadro.

1	3	5	7
3	7		
5	15		
7			

1	2	3	4
2			
3			
4			

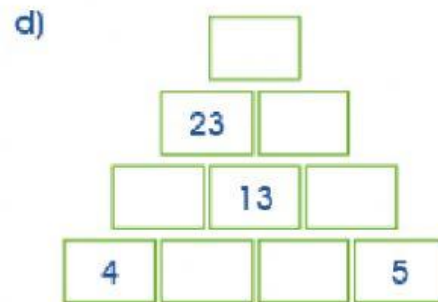
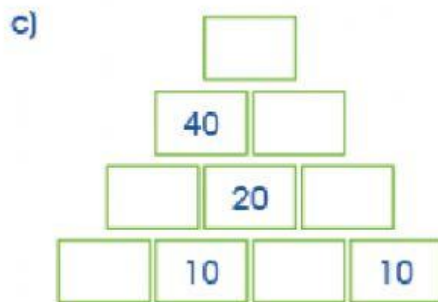
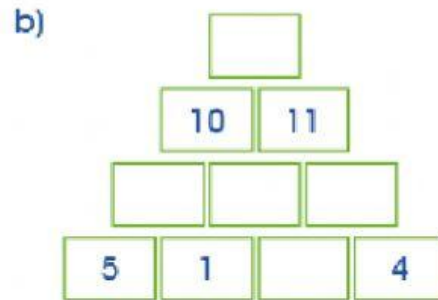
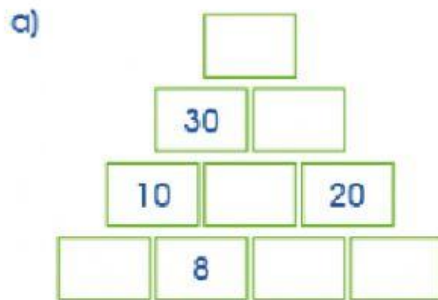
5	10	15	20
10			

2	4	6	7
4	10	20	
6	20		
7			



Retos para el hogar

1. Completa las pirámides:



2. Completa cada cuadro:

0	2	4	6
2	4		
4	10		
6			

1	4	2	3
4		15	
2			
3			