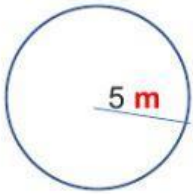


ÁREA DEL CÍRCULO



Ejemplo Calcula el área del círculo de 5 m de radio.

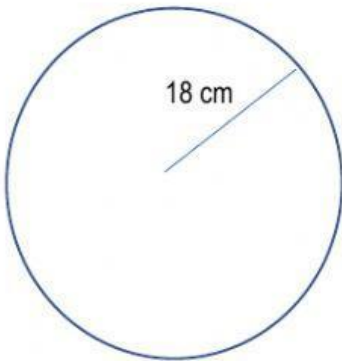
El ÁREA, se mide en la unidad indicada pero Sí al cuadrado



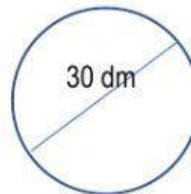
$$L = \pi \times r^2 = 3,14 \times 5^2 = 3,14 \times 25 = 78,5 \text{ m}^2$$

Para poner decimales hazlo con una coma

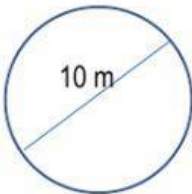
Calcula el área de los siguientes círculos:



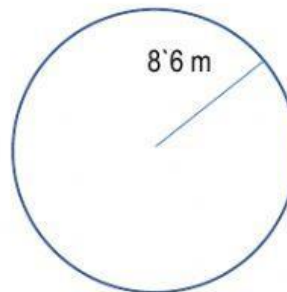
A = ____ cm



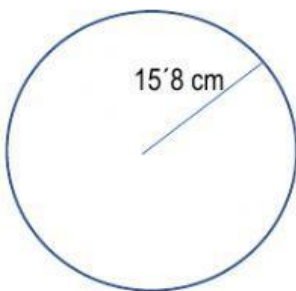
A = ____ dm



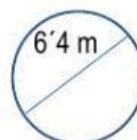
A = ____ m



A = ____ m



A = ____ cm



A = ____ m