




Знайди в кожному рядку «зайве» число.

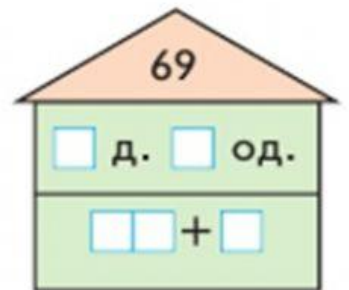
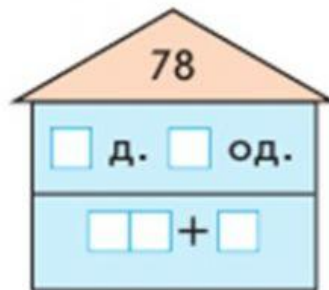
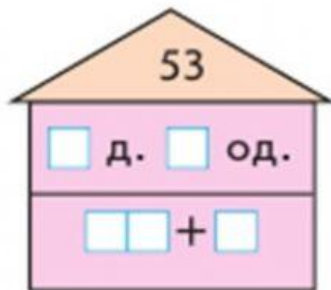
40, 8, 90, 16, 20.

50, 70, 14, 20, 90.

7, 5, 3, 9, 15, 6.



Подай число різними способами.



Заміни число сумою розрядних доданків. Прочитай рівності зліва направо; справа наліво.

$$54 = \square\square + \square$$

$$18 = \square\square + \square$$

$$36 = \square\square + \square$$

Розташуй числа у порядку зростання і дізнайся назву гірської вершини в Україні.