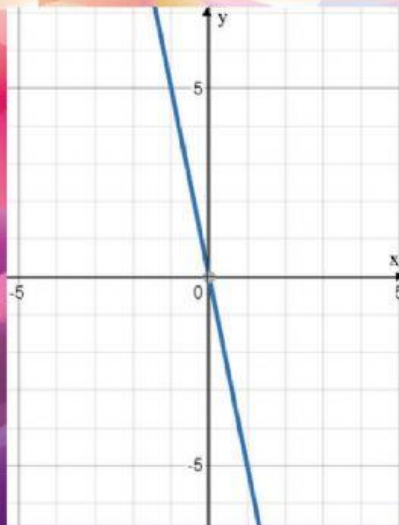


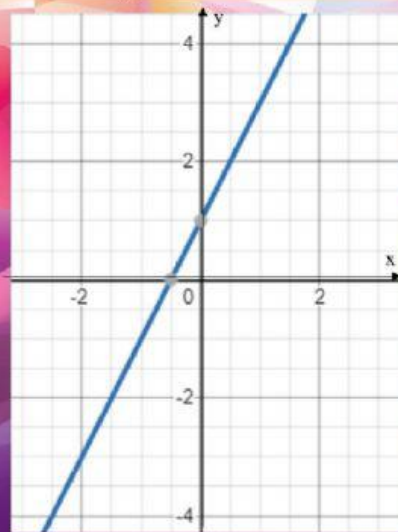
ФУНКЦИИ

Запишите уравнение прямой по ее графику.
Знак умножения между x и коэффициентом не пишем
в ответе.



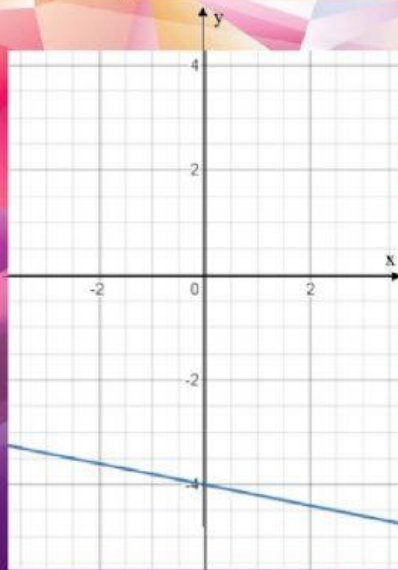
ФУНКЦИИ

Запишите уравнение прямой по ее графику.
Знак умножения между x и коэффициентом не пишем
в ответе. Все буквы английского алфавита.



ФУНКЦИИ

Запишите уравнение прямой по ее графику.
Знак умножения между x и коэффициентом не пишем
в ответе. Все буквы английского алфавита.



ФУНКЦИИ

Запишите уравнение прямой по ее графику.
Знак умножения между x и коэффициентом не пишем
в ответе. Все буквы английского алфавита.

