

FICHA REPASO 1: 3R TRIMESTRE

01. Escribe el nombre a las siguientes notas musicales.



02. Une cada duración con su símbolo correspondiente y cada símbolo con su nombre:

1/2 ●

4 ●

2 ●

1 ●

1/4 ●



● corchea

● semicorchea

● negra

















































● redonda

● blanca

03. Realiza las siguientes sumas y restas de figuras musicales. El resultado será el número de tiempos total.



04. Realiza las siguientes sumas y restas de figuras musicales. El resultado será el nombre de la figura. Ejemplo: Ejercicio 1: suma 2 tiempos pondremos: blanca.

1	 +  -  =		7	 +  +  =	
2	 +  -  =		8	 +  +  =	
3	 +  +  =		9	 +  -  =	
4	 +  +  =		10	 -  -  =	
5	 -  -  =		11	 +  +  =	
6	 +  +  =		12	 -  +  =	

05. Indica el compás de los siguientes ejemplos según sumen:

- 2 tiempos (2/4)
- 3 tiempos (3/4)
- 4 tiempos (4/4)



06. Completa la siguiente tabla de matices dinámicos.

Término	Se lee (En italiano)	Significado
F		
MF		
PP		
FF		
Dim.		
Cresc.		
P		

07. Une con flechas cada indicación de tempo con su significado correspondiente.

Andante ●

● Lento

Presto ●

● Muy lento

Largo ●

● Muy rápido

Allegro ●

● Rápido

Adagio ●

● Tranquilo