

PHIẾU ÔN TẬP TOÁN







Phép trừ (không nhớ) trong phạm vi 1000

Bài 1: Đúng ghi Đ, sai ghi S vào ô trống.

$\begin{array}{r} 457 \\ - 152 \\ \hline 305 \end{array}$	$\begin{array}{r} 987 \\ - 93 \\ \hline 57 \end{array}$	$\begin{array}{r} 472 \\ - 150 \\ \hline 321 \end{array}$	$\begin{array}{r} 567 \\ - 222 \\ \hline 345 \end{array}$
<input type="checkbox"/>	<input type="checkbox"/>	<input type="checkbox"/>	<input type="checkbox"/>

Bài 2:

Nối

Bài 3:

TÍNH NHẨM

$400 - 200 =$

$600 - 300 =$

$800 - 500 =$

$700 - 400 =$
