


## LATIHAN SOAL PH MATEMATIKA KELAS 2

### TEMA 7 SUB TEMA 1-4 PECAHAN

Kamis, 31 Maret 2022


#### I. Pilihlah jawaban yang tepat dengan memberi tanda pada huruf A, B atau C!

1.  Ibu memotong sebuah semangka menjadi dua bagian sama besar, satu bagian semangka bernilai ....

A. setengah                      B. sepertiga                      C. seperempat

2. Gambar yang menunjukkan 2 bagian sama besar adalah ....

A.                       B.                       C. 

3.  Bibi membuat pizza untuk acara tasyakuran, ia membagi menjadi beberapa bagian seperti pada gambar. Satu bagian pizza bernilai ....

A. setengah                      B. sepertiga                      C. seperempat

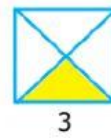

4. Gambar yang menunjukkan tiga bagian sama besar adalah ....

A.                       B.                       C. 

5. Gambar yang menunjukkan pecahan seperempat adalah ....

A.                       B.                       C. 

6. Perhatikan gambar di bawah ini!



Urutan nilai pecahan dari nomor 1 ke 3 adalah ....

A. sepertiga, setengah, seperempat                      B. seperempat, setengah, sepertiga                      C. setengah, sepertiga, seperempat

7. Tentukan nilai pecahan berdasarkan gambar di bawah ini!



Bunga daisy = ... bagian dari seluruh bunga.

A. satu per dua                      C. dua per satu  
B. satu per tiga

8. Gambar yang menunjukkan pecahan seperempat adalah ....

A.                       B.                       C. 




9. Perhatikan gambar di bawah ini!



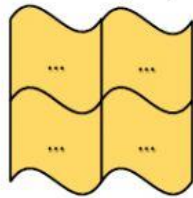
Banyak roti ada ... (1) Banyak roti rasa keju dari seluruh roti ada ... (2). Jawaban yang tepat untuk melengkapi bagian yang rumpang adalah ....

A. 3 dan  $\frac{1}{4}$                       B. 4 dan  $\frac{1}{4}$                       C. 4 dan  $\frac{1}{3}$

10. Arsiran yang tepat untuk menunjukkan pecahan seperdua adalah ....

A.                       B.                       C. 

11. Bilangan pecahan yang sesuai untuk mengisi titik-titik di bawah ini adalah ....



- A.  $\frac{1}{2}$   
B.  $\frac{1}{3}$   
C.  $\frac{1}{4}$

12. Sekelompok semut terdiri dari 1 ekor semut merah dan 2 ekor semut coklat. Seekor semut merah adalah ... bagian dari seluruh semut.



- A.  $\frac{1}{4}$                       B.  $\frac{3}{1}$                       C.  $\frac{1}{3}$

13. Setengah bagian dari 4 adalah ....



- A. 3                      B. 2                      C. 4

14. Sepertiga bagian dari 9 adalah ....



- A. 3                      B. 6                      C. 9

15. Seperempat bagian dari ... adalah 2.



- A. 10                      B. 8                      C. 6

## II. Isilah titik-titik dibawah ini dengan jawaban yang tepat!

16. Sebutkan pecahan untuk bangun di bawah ini secara beruntun!



....



....



....



....




....



....

17. Bentuk pecahan dari kelompoknya untuk buah jeruk di bawah ini adalah ....



18. Setengah bagian dari seluruh buku adalah ....



19. Sepertiga bagian dari seluruh kue adalah ....



20. Seperempat bagian dari seluruh topi adalah ....

