

DIAGNÓSTICA HISTORIA 4

1) Lee y resuelve:

“La Asamblea General de la ONU adoptó este jueves una resolución para la ayuda humanitaria en Ucrania que exige el cese inmediato de hostilidades por parte de Rusia, así como todo ataque contra la población o infraestructura civiles. El documento, que estaba copatrocinado por 90 países, obtuvo 140 votos a favor, cinco en contra - Bielorrusia, Corea del Norte, Eritrea, Rusia y Siria-, y 38 abstenciones.

El texto fue impulsado por Francia y México, que primero intentaron presentarlo ante el Consejo de Seguridad sin obtener el consenso necesario, y consiguió que decenas de países, entre ellos Ucrania, se adhirieran a su patrocinio en la Asamblea General.

En sus disposiciones, la resolución también exige la protección de los civiles, incluidos el personal humanitario, los periodistas y los colectivos más vulnerables, como mujeres y niños. Otra exigencia es que se proteja a los civiles que huyan de los enfrentamientos y se les permita el paso seguro sin obstáculos ni discriminación de ningún tipo. Además, estipula que se garantice el acceso irrestricto al personal y suministros humanitarios, y demanda el fin del asedio a las ciudades como Mairupol.

(...) Condena las violaciones de las leyes internacionales humanitarias y de derechos humanos y exhorta a las partes a respetar el derecho internacional, haciendo mención específica de las Convenciones de Ginebra de 1949. Asimismo, llama a financiar el Plan de Respuesta Humanitaria de la ONU y al plan regional de respuesta para los refugiados de Ucrania en los países vecinos. En otro punto, alienta a continuar las negociaciones entre todas las partes e insta a la resolución pacífica inmediata del conflicto entre Rusia y Ucrania a través del diálogo político y otros medios de conformidad con el derecho internacional (...).” Fuente: ONU/Eskinder Debebe, 24 de marzo de 2022.

1. El texto describe:

- a) una resolución adoptada por Francia y México para la ayuda humanitaria en Ucrania.
- b) una resolución adoptada por el Consejo de Seguridad de la ONU exigiendo el cese inmediato de las hostilidades por parte de Rusia en el conflicto con Ucrania.
- c) una resolución adoptada por la Asamblea General de la ONU para la ayuda humanitaria en Ucrania.
- d) una resolución adoptada por la OTAN que aliente a continuar las negociaciones en todas las partes e insta a la resolución pacífica inmediata del conflicto entre Rusia y Ucrania a través del diálogo político.

DIAGNÓSTICA HISTORIA 4

2. Como resultado de la votación, el documento:
 - a) fue aprobado de manera unánime por todos los países representados en la Asamblea.
 - b) fue aprobado por una mayoría de 90 países miembros de la Organización.
 - c) fue aprobado por una mayoría de 140 países, 38 en contra y 5 abstenciones.
 - d) fue aprobado por algo más del 75% de los países que emitieron su voto.

3. De los siguientes ítems, ¿cuáles están comprendidos en los objetivos de la ONU? Selecciona los correctos.
 - a) velar por la paz y la seguridad internacional.
 - b) intervenir militarmente cuando la soberanía de una nación está en peligro.
 - c) promover el diálogo entre las naciones para evitar guerras o conflictos.
 - d) garantizar el respeto de los derechos humanos y fomentar la cooperación internacional en todos los ámbitos.

4. La Organización de las Naciones Unidas:
 - a) fue creada en 1919 al final de la 1ª guerra mundial
 - b) fue creada en 1945 al final de la 2ª guerra mundial
 - c) fue creada en 1991 al final de la guerra fría

5. Mira las fotografías: ¿cuáles muestran un plano completo?
 - a) I y II
 - b) II y III
 - c) II y IV
 - d) I y III

DIAGNÓSTICA HISTORIA 4



6. De las fotografías podemos deducir:

- a) Los planes militares de Putin en Ucrania.
- b) El poder armamentístico y el impacto de la guerra sobre la población civil.
- c) Las cifras de muertos y heridos.
- d) Las cuantiosas pérdidas materiales en las ciudades bombardeadas.

7. ¿Quién es Volodímir Zelenski en las siguientes fotografías?

- a) 1
- b) 2
- c) 3
- d) 4
- e) ninguno



DIAGNÓSTICA HISTORIA 4

8. Selecciona las verdaderas. Mirando el mapa podemos inferir que:

CONTEXTO EUROPEO EN EL CONFLICTO MILITAR ENTRE RUSIA Y UCRANIA



- a) Ucrania se ubica en la región este de Europa.
- b) Ucrania es parte de la OTAN.
- c) La zona del Donbás, ubicada al oeste de Ucrania, se proclamó independiente en 2014.
- d) Crimea es rusa y es un punto clave en la salida al mar Báltico.
- e) Una parte importante de los ucranianos son rusoparlantes.
- f) Ucrania fue parte de la ex Unión Soviética.
- g) La península de Crimea se ubica al norte de Ucrania.
- h) Rusia ha perdido influencia en Europa desde la caída del comunismo occidental en los 90.

DIAGNÓSTICA HISTORIA 4

9. ¿Qué muestra la imagen?

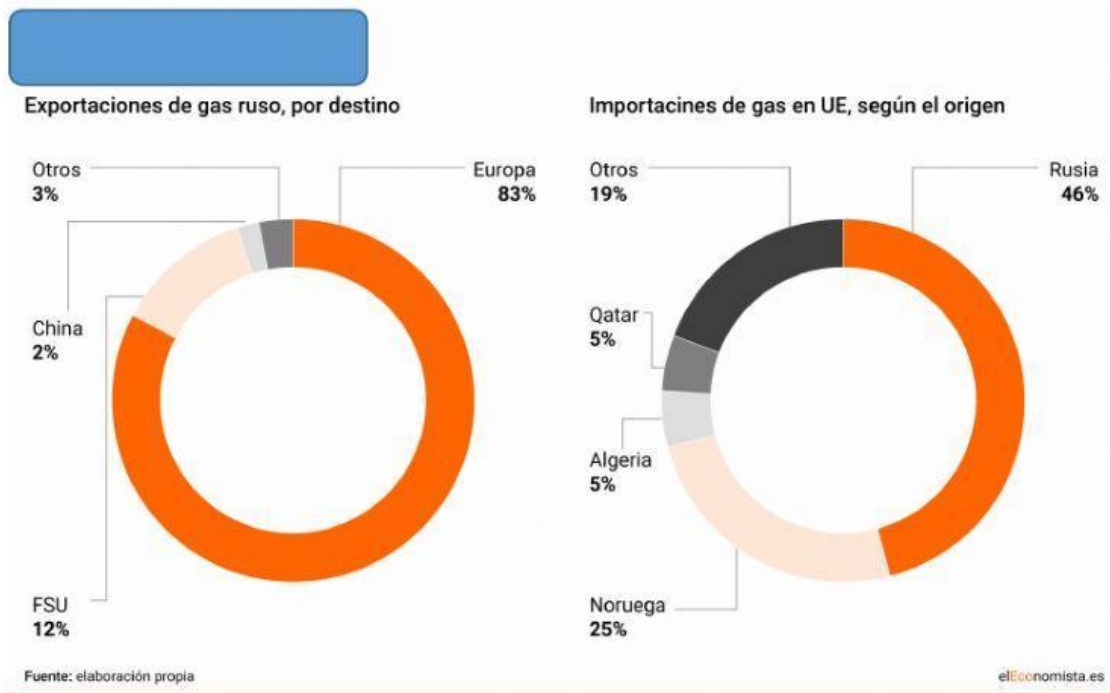


- a) el impacto del conflicto Rusia- Ucrania sobre la economía mundial en %.
- b) las causas económicas del conflicto entre Rusia y Ucrania.
- c) una proyección sobre el impacto económico de la guerra en el mundo y en algunas zonas específicas.
- d) una proyección sobre la caída del PBI mundial en 1 billón de dólares.

10. Mira los gráficos: ¿qué región del mundo es más dependiente del gas ruso?

- a) China
- b) Noruega
- c) FSU
- d) Qatar
- e) Europa
- f) Algeria
- g) Otros

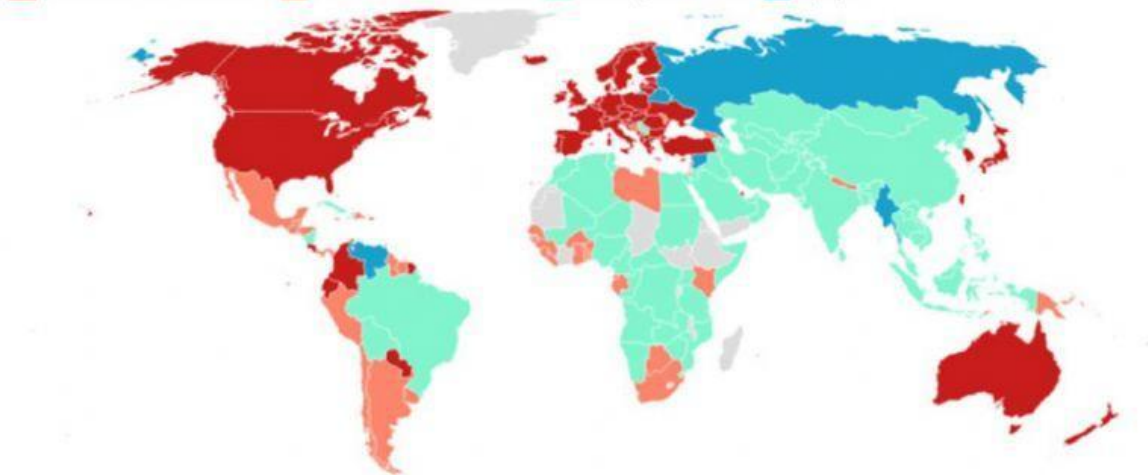
DIAGNÓSTICA HISTORIA 4



11. En el mapa se muestra (solo selecciona las correctas):

Los principales aliados de Rusia y los de Ucrania

■ Condena con sanción ■ Condena sin sanción ■ No hay condena ■ Apoyo



- La mayoría de los países del mundo condenan con sanción a Rusia.
- China condena sin sanción a Rusia, al igual que Cuba.
- Las principales potencias capitalistas occidentales condenan con sanción a Rusia.

DIAGNÓSTICA HISTORIA 4

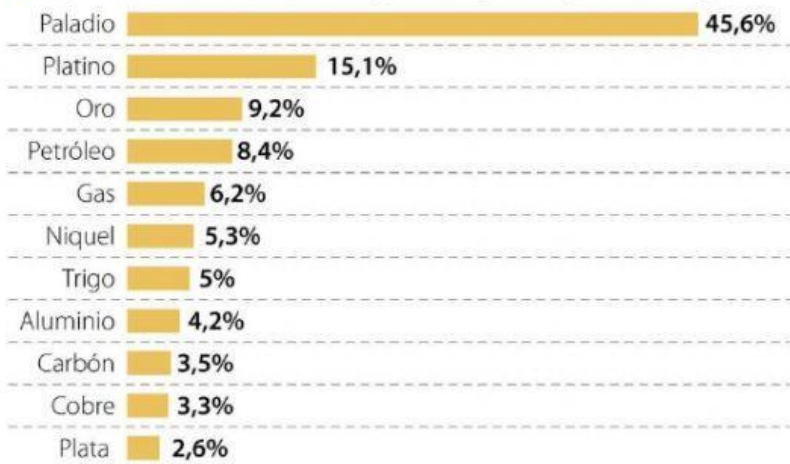
- d) La mayoría de los países de América Latina adoptan una posición alineada con Estados Unidos.
- e) Los países del Mercosur adoptan una posición unánime frente al conflicto.
- f) Una minoría de países africanos condenan sin sanción a Rusia.

12. Mirando las tablas podemos inferir (señala si es VERDADERO o FALSO):

- a) Rusia y Ucrania, sumados, son los proveedores más importantes de granos en el mundo. V F
- b) El alza de precios de materias primas clave como el gas en Europa es una consecuencia del conflicto. V F
- c) Rusia es un proveedor importante de materias primas clave, el gas y el petróleo ocupan el lugar 1 y 2 en el volumen de sus exportaciones. V F
- d) Va a haber un aumento de la inflación mundial y algunos países del mundo tendrán crisis alimentaria. V F

RUSIA ES UN PROVEEDOR IMPORTANTE DE MATERIAS PRIMAS CLAVE

Exportaciones de Rusia como porcentaje de la producción global

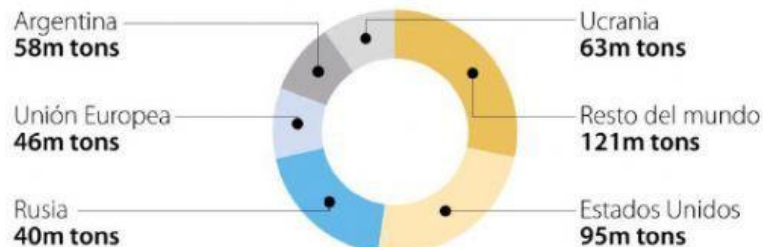


UNA GRAN ALZA

Los precios se han disparado por los miedos del conflicto y suministros limitados



UCRANIA Y RUSIA REPRESENTAN UN CUARTO DE LAS EXPORTACIONES GLOBALES DE GRANO



Fuente: JP Morgan, ICE, Bloomberg / Gráfico: LR-AL