

MATEMÁTICAS

Tema: Números Entero

1 Coloca cada número en el lugar correspondiente:

+8 +7 -4 -5 -3 9 1 -2 -11 -7 10
25 +34 65 -73 +43 -20 -12 40 -9

Números Positivos

Números Negativos

2 Observa el esquema y contesta a las preguntas:



-Si Pablo está en la planta +1 y sube dos plantas, ¿A qué piso llegará?

¿Qué tipos de números enteros son los que corresponden a los pisos superiores a la planta 0?

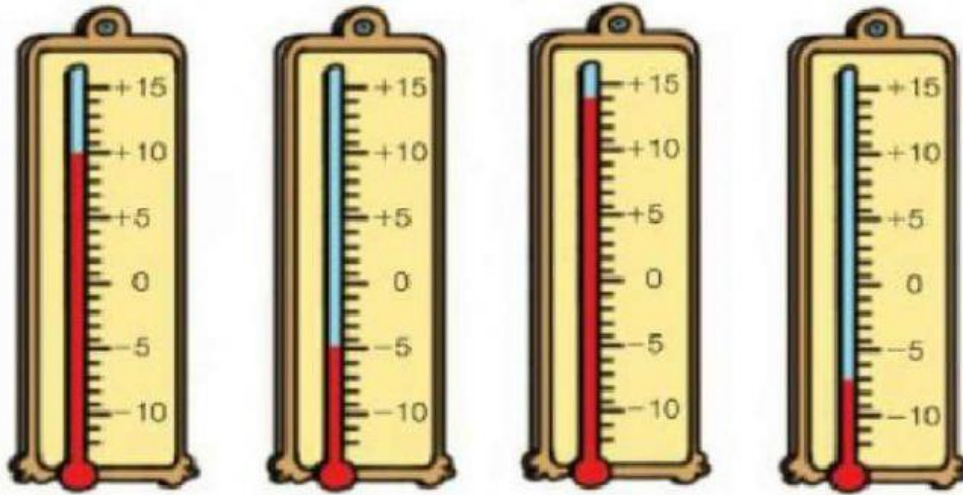
-Jon está en la planta baja, ¿qué número representa esa planta?

-Carla está en la planta 0 y baja una planta, ¿en qué planta está ahora Carla?

¿Qué tipos de números enteros son los que corresponden a los pisos inferiores a la planta 0?

3

¿Qué temperatura marca cada termómetro?


 °C

 °C

 °C

 °C

4

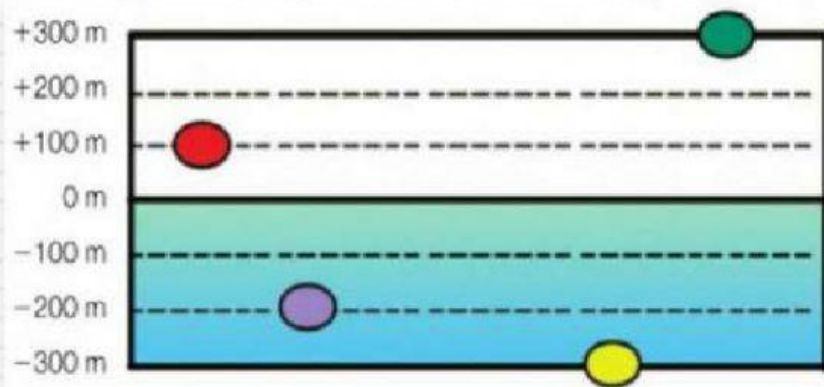
Observa y escribe en qué nivel se encuentra cada punto.

Verde: m

Morado: m

Rojo: m

Amarillo: m



5 Indica que signo corresponde a cada expresion:

Ganancia

Altura

Bajo 0°C

Retroceder

Perdida

Avanzar

Profundidad

Sobre 0°C

Subir

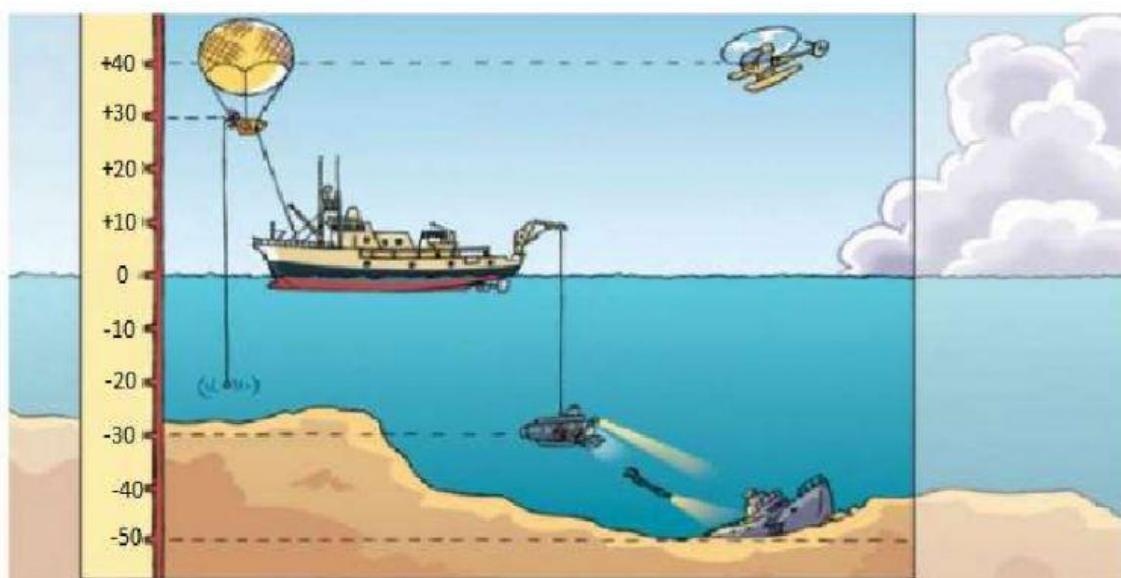
Aumentar

Bajar

Disminuir

6

Observa y describe qué ocurre. Usa los números enteros



El helicóptero está volando a sobre el nivel del mar.

El viajero del globo se encuentra a sobre el nivel del mar.

El submarino investiga a por debajo del nivel del mar.

El buzo está a y descubre un viejo barco hundido a

El barco se encuentra en el nivel