



**Lee y numera según corresponda.**

1. En este paisaje el terreno es principalmente plano, con algunas colinas y lomas. En él suelen construirse grandes pueblos y ciudades.
2. Este paisaje se encuentra junto al mar. Suele tener muchos habitantes, y en él hay playas y acantilados, cabos e islas.
3. Las montañas son el elemento principal de este paisaje; en él hay pocos habitantes y se pueden ver valles, mesetas y bosques.



**¿A qué tipo de relieve corresponden estas formas? Une.**

- |                     |                                   |
|---------------------|-----------------------------------|
| relieve montañoso ■ | ■ cabo – isla – península – bahía |
| relieve llano ■     | ■ valle – meseta – depresión      |
| relieve de costa ■  | ■ sierra – cordillera – colina    |

**¿Qué es un afluente? Elige y completa.**



Un afluente es un río que  
\_\_\_\_\_ en otro río.

**Lee y escribe el nombre del elemento del paisaje que corresponda.**

1. Terreno llano situado entre montañas ►
2. Conjunto de montañas ►
3. Amplia porción de tierra que se adentra en el mar ►
4. Extensión de tierra completamente rodeada por el mar ►
5. Corriente continua de agua dulce ►

**Escribe V (verdadero) o F (falso).**

- ☐ En su desembocadura los ríos son estrechos y llevan poca agua.
- ☐ Una isla es una extensión de tierra completamente rodeada por el mar.
- ☐ Cuando las montañas llegan hasta el mar, en la costa hay extensas playas de arena.
- ☐ Una meseta es una llanura extensa situada a bastante altura.
- ☐ Una sierra es un conjunto de montañas.
- ☐ La parte más elevada de una montaña se llama cima.

Coloca cada palabra en su lugar.

En las montañas, los pueblos son

y los ríos son

Hay nieve en la parte


y prados en la parte de la montaña.

alta

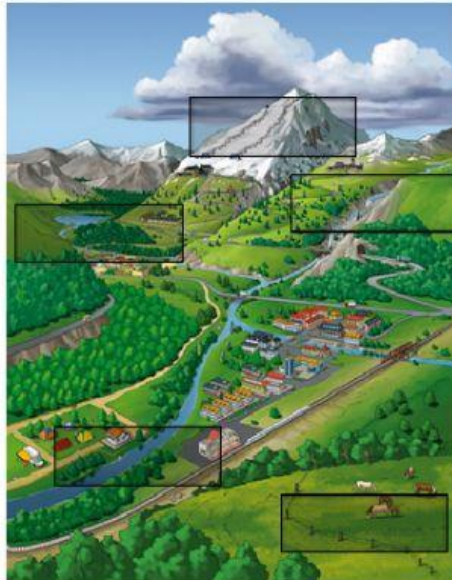
pequeños

baja

estrechos



Coloca cada elemento en el lugar que le corresponde.



cascada

prado

montaña

lago

río

Escribe las palabras según corresponda.



Elementos naturales:

Elementos hechos por el hombre: