

TUTTO



iNVALSi

VERIFICARE LE COMPETENZE

PROVA 3C: FUNZIONI E DATI



18. In quale riquadro le monete valgono 1 euro?



- A. ☐ Nel riquadro 1.
 B. ☐ Nel riquadro 2.
 C. ☐ In nessuno dei due.


19. In quale riquadro le monete valgono 3 euro?




- A. ☐ Nel riquadro 1.
 B. ☐ Nel riquadro 2.
 C. ☐ In nessuno dei due.

20. Qual è il riquadro che non ha 20 euro esatti?


1



2



3




A. ☐ 1

B. ☐ 2


C. ☐ 3

21. Qual è il riquadro che non ha 50 euro esatti?

1



2

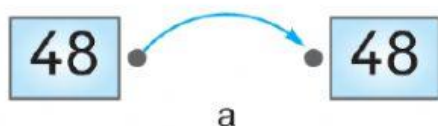


A. ☐ Il riquadro 1.

B. ☐ Il riquadro 2.

C. ☐ Nessuno dei due.

25. La freccia dice «È maggiore di». Qual è lo schema sbagliato?



a



b



c

A. ☐ a

B. ☐ b

C. ☐ c

26. La freccia dice «+ 10». Qual è lo schema sbagliato?



a



b



c

A. ☐ a

B. ☐ b

C. ☐ c

27. La freccia dice «- 5». Qual è lo schema sbagliato?



a



b



c

A. ☐ a

B. ☐ b

C. ☐ c

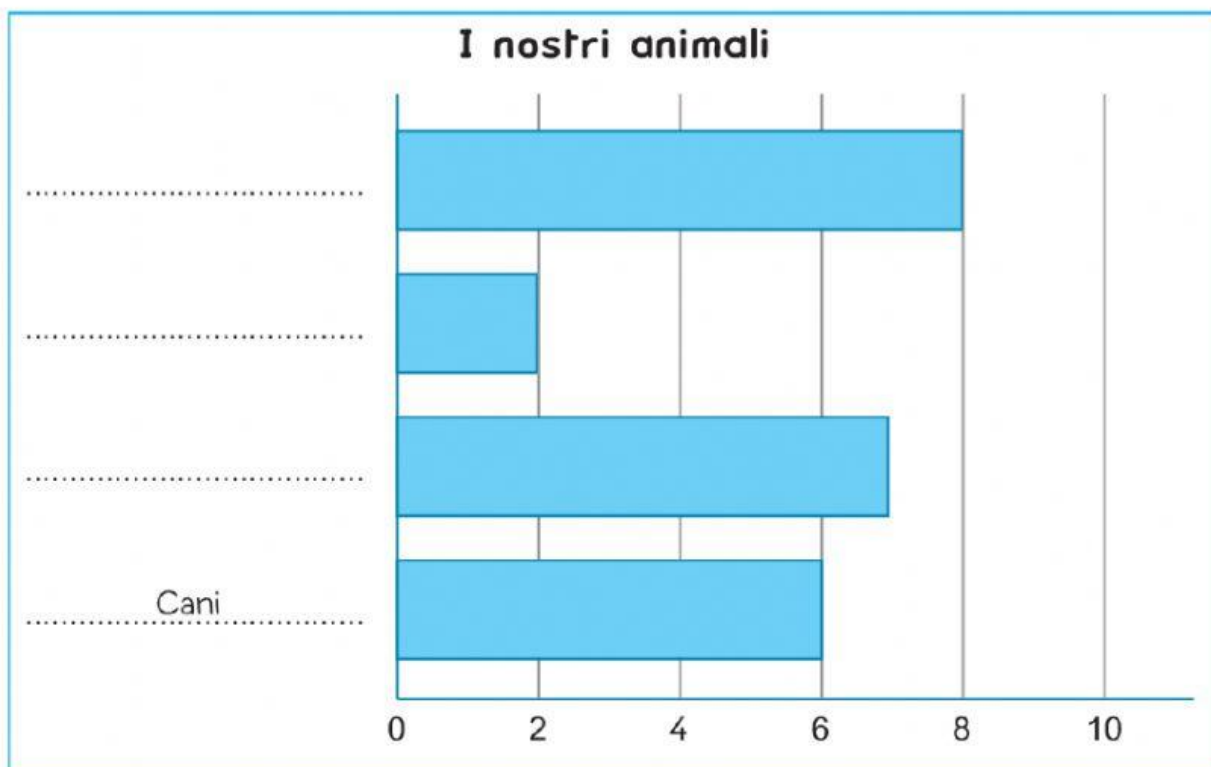
DATI E PREVISIONI

28. I bambini di una classe seconda hanno fatto un'indagine sugli animali che hanno in casa. Hanno raccolto i dati in una tabella, poi hanno disegnato un grafico. Osserva la tabella.

I nostri animali

CANI	GATTI	CRICETI	PESCI
6	8	2	7


- a. Osserva ora il grafico: come vedi non è completo. Scrivi sopra i puntini i nomi degli animali che mancano.



- b. Quanti animali hanno in tutto i bambini della classe?

Risposta:

29. Una bambina, a occhi bendati, prende una pallina dal vaso che vedi.



Prenderà una pallina blu?
Leggi come hanno risposto tre bambini.
Chi ha ragione?

- A. ☐ Antonio



È certo!

- B. ☐ Viola



È possibile!

- C. ☐ Leonardo



È impossibile!