

Nama :

Kelas :

28 Maret 2022

بِسْمِ اللَّهِ الرَّحْمَنِ الرَّحِيمِ

Pilihlah A, B, C, atau D pada Jawaban yang Benar!

1. Segitiga, persegi, lingkaran dan persegi panjang merupakan contoh bangun . . .

a. ruang

c. datar

b. berdimensi

d. dimensi tiga

2. Segitiga adalah bangun dengan . . . sisi.

a. 2

c. 4

b. 3

d. 5

3. Pada bangun segitiga mempunyai sudut sebanyak . . .

a. 1

c. 3

b. 2

d. 4

4. Segitiga yang mempunyai dua sisi yang sama panjang dan dua sudut sama besar disebut segitiga . . .

a. segitiga tidak beraturan

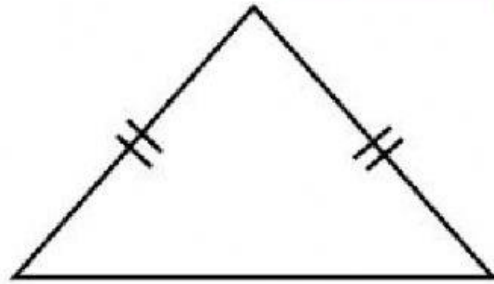
c. segitiga siku-siku

b. segitiga sama kaki

d. segitiga sama sisi

5. Gambar bangun di bawah ini adalah gambar bangun . . .

- a. segitiga sama sisi
- b. Segitiga siku-siku
- c. Segitiga sama kaki
- d. Segitiga tidak beraturan



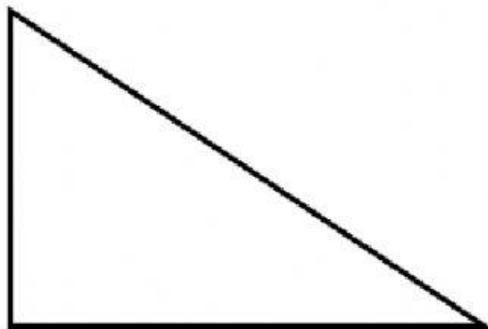
6. Segitiga yang tidak mempunyai sisi yang sama panjang dan memiliki sudut yang besarnya berbeda-beda adalah . . .

- |                       |                             |
|-----------------------|-----------------------------|
| a. segitiga sama kaki | c. segitiga siku-siku       |
| b. segitiga sama sisi | d. segitiga tidak beraturan |

7. Nama bangun yang ketiga sisinya sama dan mempunyai 3 sudut sama besar adalah . . .

- |                       |                             |
|-----------------------|-----------------------------|
| a. segitiga sama sisi | c. segitiga siku-siku       |
| b. segitiga sama kaki | d. segitiga tidak beraturan |

8.



Gambar di samping adalah gambar segitiga . . .

- |              |                    |
|--------------|--------------------|
| a. lancip    | c. sama sisi       |
| b. siku-siku | d. tidak beraturan |

9. Segitiga sama kaki mempunyai sisi yang sama panjang sebanyak . . .

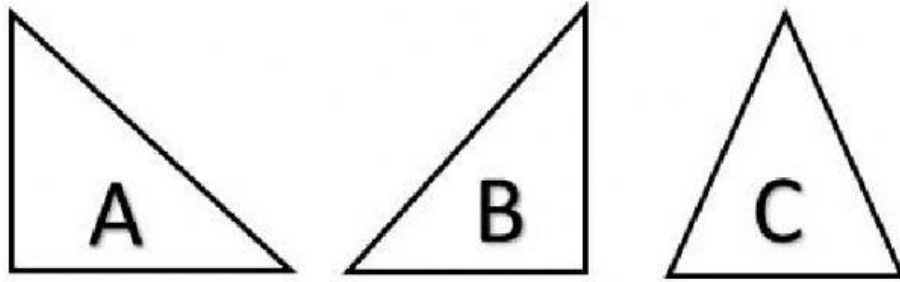
a. 2

c. 4

b. 3

d. 5

10. Gambar di bawah ini yang merupakan segitiga siku-siku adalah . . .



a. A dan C

c. C dan A

b. B dan C

d. A dan B

اَلْحَمْدُ لِلّٰهِ رَبِّ الْعٰلَمِيْنَ