

PRACTICA DE GEOMETRÍA

1. En cada recuadro escribe **V** si la afirmación es verdadera o **F** si es falsa.

a) La recta se puede medir.

b) El segmento se puede medir.


c) El rayo se puede medir.

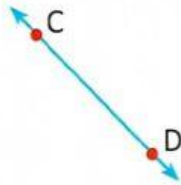
d) Las rectas paralelas se pueden intersectar.

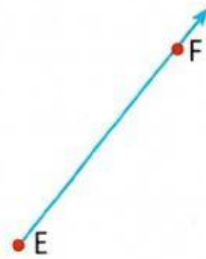
f) Las rectas paralelas no se pueden intersectar.

e) La recta no se puede medir.

2. En cada recuadro escribe el nombre que le corresponde a las siguientes líneas.











3. ¿Cuántos segmentos hay en la siguiente figura?

La respuesta no es 2. Nombra los segmentos.



Respuesta: _____

3. ¿Cuántos segmentos hay en la siguiente figura?

La respuesta no es 3. Nombra los segmentos.



Respuesta: _____