

Docente María Ríos Obando



Seleccione la opción correcta en cada pregunta


¿Con cuáles países vecinos limita Costa Rica?

- A. Salvador y Belice.
- B. Nicaragua y Panamá.
- C. Nicaragua y San José.



¿Cómo se llaman las dos líneas imaginarias con las que Costa Rica se describe en el planeta?

- A. Norte y Sur.
- B. Arriba y Abajo
- C. Paralelo y Meridiano.



Lea la siguiente información

En la tierra se distinguen grandes masas de agua.

La información mencionada anteriormente corresponde a

- A. Continentes.
- B. Océanos.
- C. Desastres.



2-Lea la siguiente información

Son grandes masas de tierra

La información mencionada anteriormente corresponde

- A. Continentes.
- B. Océanos.
- C. Desastres.



3-Lea la siguiente información

Posee un clima favorable de diversidad de plantas y animales

La característica anterior corresponde

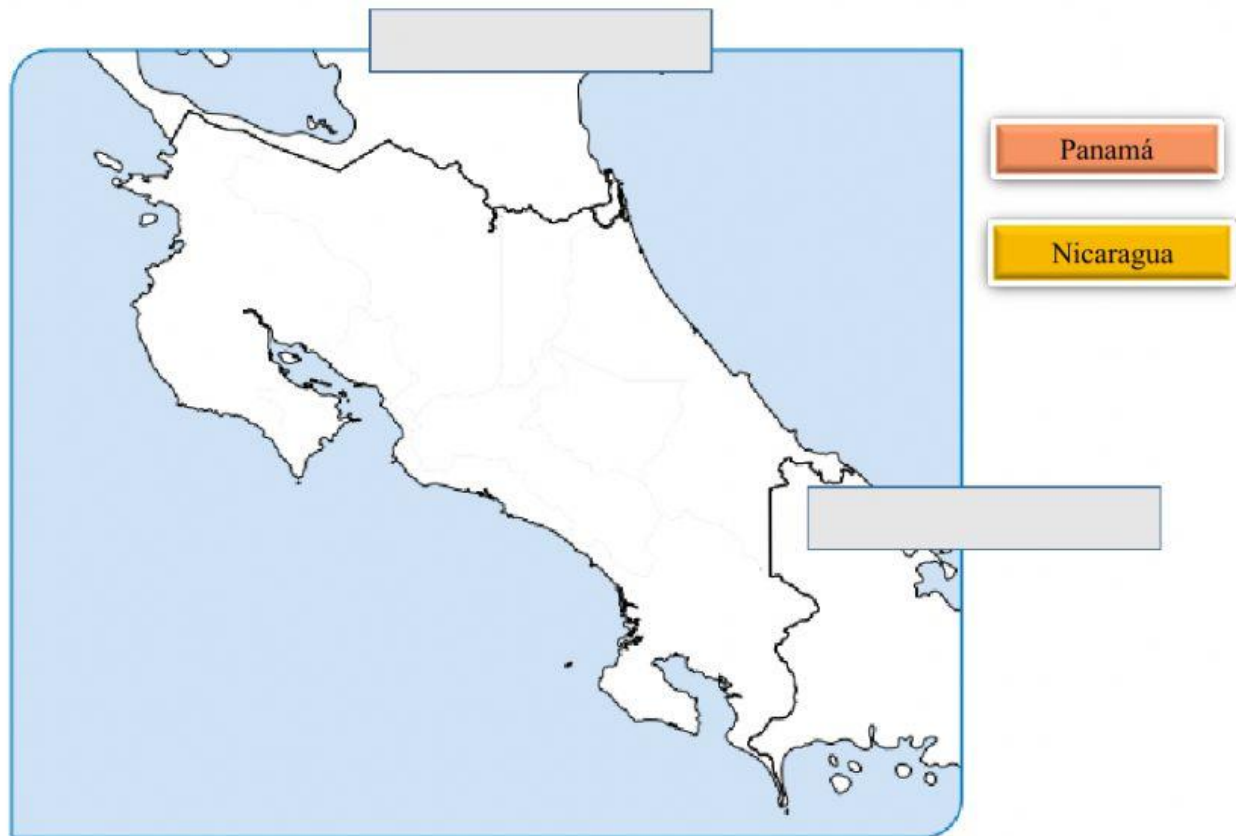
- A. ventajas.
- B. Desventajas.
- C. Aspectos políticos.

Se ubica en una zona de alto riesgo sísmica

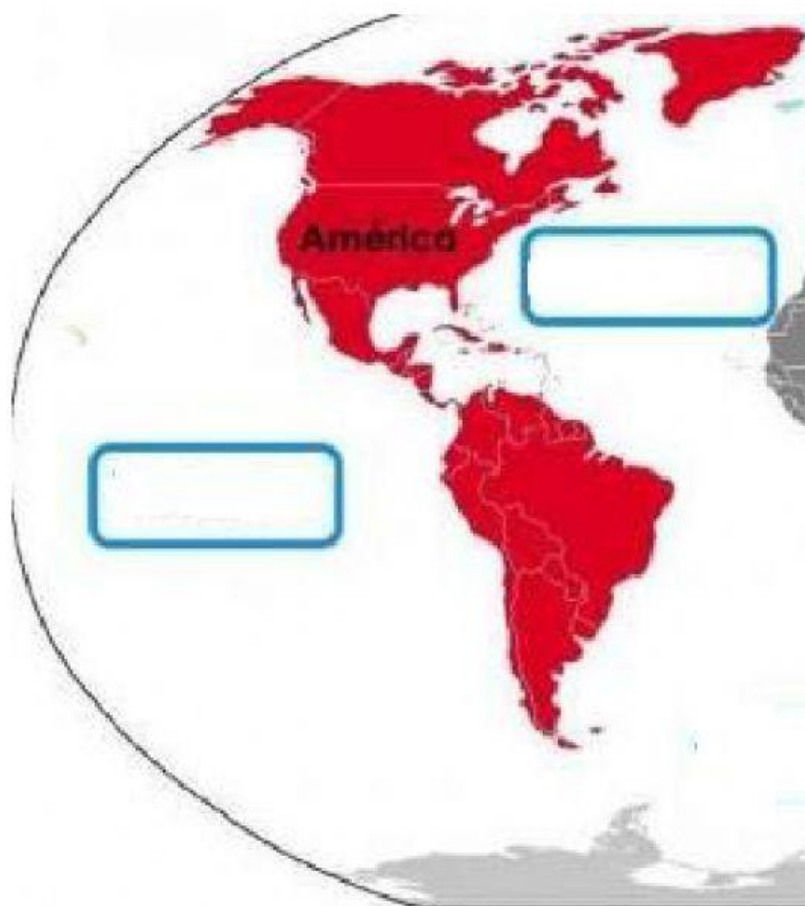
La característica anterior corresponde

- A. ventajas.
- B. Desventajas.
- C. Aspectos políticos.

Arrastre los nombres de los países con los que limita Costa Rica



Arrastre los nombres de los océanos que rodean a Costa Rica.
Coloque los nombres de los océanos en el lugar correspondiente.



Pacífico

Atlántico

Indico

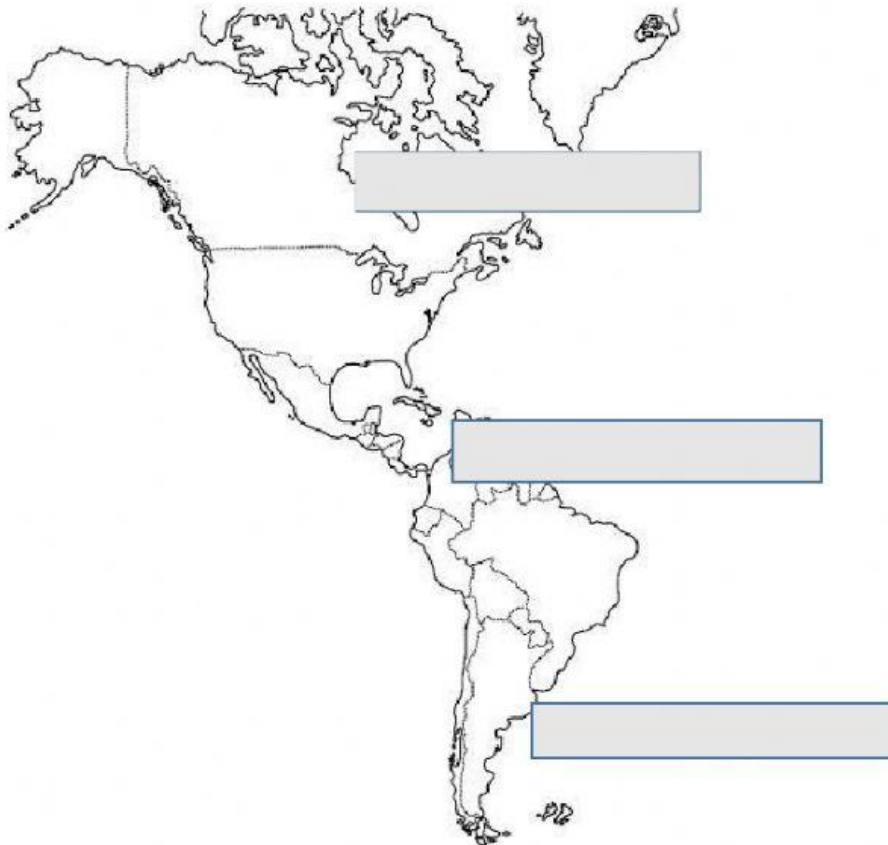
Glacial Ártico

Arrastre el nombre de las áreas de América según su división

América del Sur

América Central

América del Norte



Seleccione los recuadros que se refieren a ventajas de la posición continental de Costa Rica.

Sufrir altas temperaturas en algunos sitios debido a su Ubicación en la zona tropical.

Poseer una diversidad de plantas y animales.

Estar expuesta a tormentas y huracanes.

Servir como puente biológico y Cultural entre América del Norte y América del Sur.

Tener acceso al océano Pacífico y al mar Caribe.

Localizarse en un área propensa a la actividad sísmica y volcánica.

Favorecer el desarrollo de comercio entre el norte y el sur, por estar Situada en el centro del continente.

Seleccione los recuadros que se refieren a desventajas de la posición continental de Costa Rica.

Favorecer el desarrollo de comercio entre el norte y el sur, por estar Situada en el centro del continente.

Servir como puente biológico y Cultural entre América del Norte y América del Sur.

Localizarse en un área propensa a la actividad sísmica y volcánica.

Sufrir altas temperaturas en algunos sitios debido a su Ubicación en la zona tropical.

Tener acceso al océano Pacífico y al mar Caribe.

Poseer una diversidad de plantas y animales.

Estar expuesta a tormentas y huracanes.