

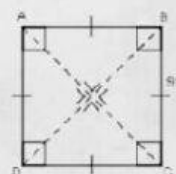
KEGIATAN 2

MEMAHAMI JENIS DAN SIFAT SEGIEMPAT

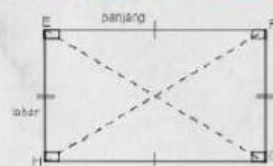


Ayo Mengamati!


Perhatikan gambar benda-benda di bawah ini. Pasangkanlah benda-benda dengan bangun segiempat berdasarkan kemiripannya



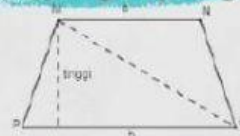
Persegi



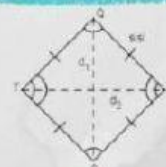
Persegi panjang



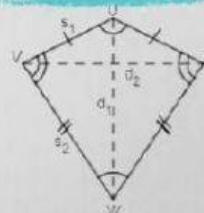
Jajargenjang



Trapezium



Belahketupat



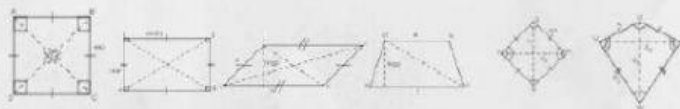
Layang-layang



Ayo Menalar!

Perhatikan hal-hal yang berhubungan dengan bangun segiempat, seperti sisi, sudut maupun diagonalnya untuk menentukan sifat bangun tersebut!

SIFAT



Setiap pasang sisi sejajar

--	--	--	--	--	--

Sisi yang berhadapan sama panjang

--	--	--	--	--	--

Semua sisi sama panjang

--	--	--	--	--	--

Sudut yang berhadapan sama besar

--	--	--	--	--	--

Semua sudut sama besar

--	--	--	--	--	--

Masing-masing diagonal membagi daerah atas dua bagian yang sama

--	--	--	--	--	--

Kedua diagonal tegak lurus

--	--	--	--	--	--

Sepasang sisi sejajar

--	--	--	--	--	--

Simetri lipat sebanyak 1

--	--	--	--	--	--

Simetri lipat sebanyak 2

--	--	--	--	--	--

Simetri lipat sebanyak 4

--	--	--	--	--	--

Simetri putar sebanyak 1

--	--	--	--	--	--

Simetri putar sebanyak 2

--	--	--	--	--	--

Simetri putar sebanyak 4

--	--	--	--	--	--

Kerjakanlah dengan cermat!