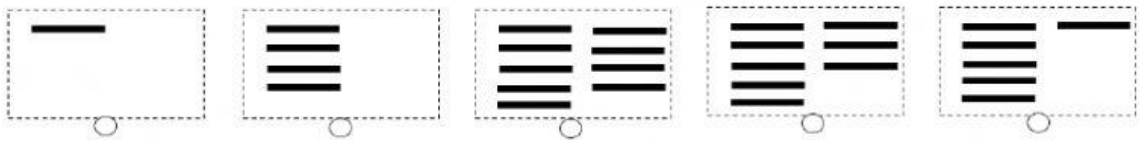


Demuestro lo aprendido con las decenas netas

1. Relaciona la criptografía con el número que le corresponde.



90

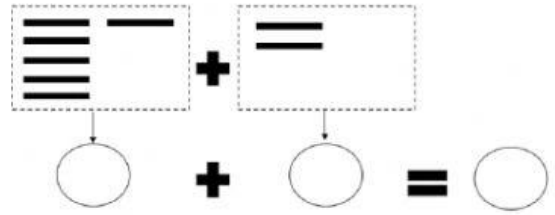
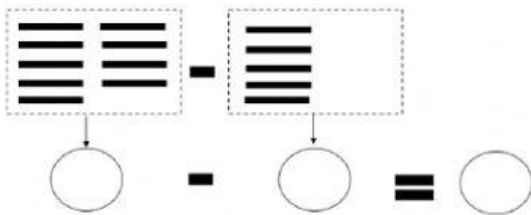
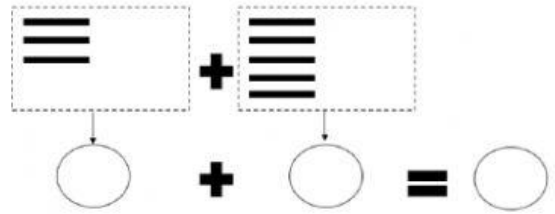
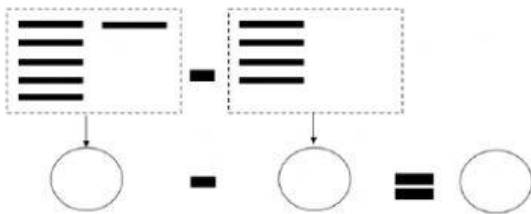
10

80

40

60

2. Cuenta la criptografía, escribe el número y luego realiza el cálculo.



3. Une con la respuesta correcta.

60 - 40 .

. setenta

20 + 70 .

. noventa

40 + 30 .

. treinta

90 - 60 .

. veinte

4. Resuelve las siguientes operaciones con las decenas netas

$$20 + 30 = \underline{\hspace{2cm}}$$

$$70 - 30 = \underline{\hspace{2cm}}$$

$$60 + 20 = \underline{\hspace{2cm}}$$

$$80 - 40 = \underline{\hspace{2cm}}$$