



# MÚSICA 5º - EL ROMANTICISMO

1.- ¿Cómo se llaman estos compositores?



2.- ¿Sabrías identificar en qué género musical destacó cada uno de estos compositores?


**VERDI**

**STRAUSS**

**WAGNER**

**TCHAIKOVSKY**

3.- INTERVALOS. ¿Cómo son estos intervalos según el número de notas que lo componen? Recuerda que debes contar desde la primera (incluida) hasta la última nota. Ejemplo: **MI-LA**: mi, fa, sol, la=4ª



4.- Observa los cuadros y luego realiza estas sumas musicales:

Nombre	Figura	Duración	Silencio
Redonda	○	4 tiempos	—
Blanca	♪	2 tiempos	—
Negra	♩	1 tiempo	}
Corchea	♪	1/2 tiempo	}
Semicorchea	♫	1/4 tiempo	}

Nombre	Figura	Duración	Silencio
Redonda con puntillo	○·	6 tiempos	—·
Blanca con puntillo	♪·	3 tiempos	—·
Negra con puntillo	♩·	1 tiempo y ½	}·

—· + ♩ =

♪ + ♫ =

♩ + ○ =

♪ + — =