



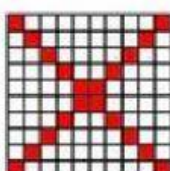



MATEMÁTICA



Tema: décima, centésimas y milésimas.

Relaciona el número decimal con su nombre correcto

I. Observa y une.



$$\frac{25}{100} \text{ veinticinco centésimas}$$

$$\frac{12}{100} \text{ doce centésimas}$$

$$\frac{4}{10} \text{ cuatro décimas}$$

$$\frac{3}{10} \text{ tres décimas}$$

$$\frac{9}{10} \text{ nueve décimas}$$

$$\frac{7}{100} \text{ siete centésimas}$$

$$\frac{6}{10} \text{ seis décimas}$$

$$\frac{20}{100} \text{ veinte centésimas}$$

$$\frac{66}{100} \text{ sesenta y seis centésimas}$$

$$\frac{45}{100} \text{ cuarenta y cinco centésimas}$$

