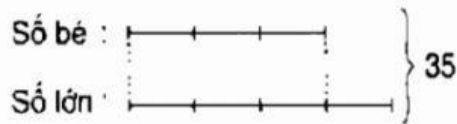


## Bài 138. TÌM HAI SỐ KHI BIẾT TỔNG VÀ TỈ SỐ CỦA HAI SỐ ĐÓ

1. Viết số hoặc tỉ số vào chỗ chấm :

a)



Tổng của hai số bằng .....

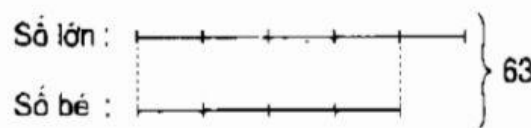
Số bé được biểu thị là ..... phần bằng nhau.

Số lớn được biểu thị là ..... phần như thế.

Tỉ số của số bé và số lớn là .....

Tổng số phần bằng nhau là ..... phần.

b)



Tổng của hai số bằng .....

Số lớn được biểu thị là ..... phần bằng nhau.

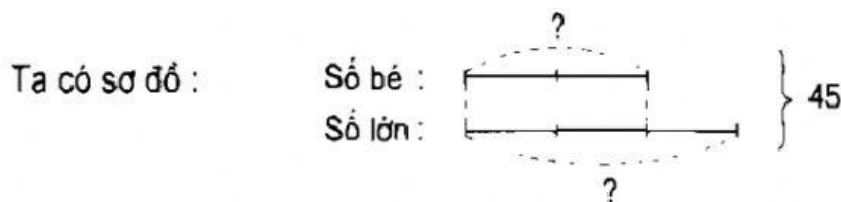
Số bé được biểu thị là ..... phần như thế.

Tỉ số của số lớn và số bé là .....

Tổng số phần bằng nhau là ..... phần.

2. Tổng của hai số là 45. Tỉ số của hai số đó là  $\frac{2}{3}$ . Tìm hai số đó.

*Bài giải*



..... Tổng số phần bằng nhau là: .....

..... (phần) .....

..... Giá trị của một phần là: .....

.....

..... Số bé là: .....

..... Số lớn là: .....

..... Đáp số: số bé: .....

..... số lớn: .....

3. Một cửa hàng đã bán 49kg gạo, trong đó số gạo nếp bằng  $\frac{2}{5}$  số gạo tẻ.

Hỏi cửa hàng đó đã bán bao nhiêu ki-lô-gam gạo mỗi loại ?

*Bài giải*

... Theo bài ra, con sẽ vẽ sơ đồ: (ghi số phần thích hợp vào ô trống) .....

... Gạo nếp: ..... phần } .....

... Gạo tẻ: ..... phần } .....kg gạo

... Tổng số phần bằng nhau là: ..... = ..... (phần)

... Giá trị của một phần là: ..... = ( ..... )

... Cửa hàng đã bán số ki-lô-gam gạo nếp là: ..... = ..... (.....)

... Cửa hàng đã bán số ki-lô-gam gạo tẻ là: ..... = ..... (.....)

..... Đáp số: Gạo nếp: .....

..... Gạo tẻ: .....

.....