

Responde a las preguntas. Asegúrate de que entiendes bien el enunciado de cada ejercicio.

1. ¿Cuántas monedas de 50 cts te pueden dar, como máximo, si tienes que cambiar 5,70 €? ¿Y si los quieres cambiar en monedas de 10 cts.? ¿Y en monedas de 5 cts.?

Me darán _____ monedas de 50cts. Me darán _____ monedas de 10cts. Me darán _____ monedas de 5cts.

2. ¿Cuántos euros tienes si tienes 4 billetes de 5 €, 3 monedas de 2 €, 9 de 1 €, 10 de 50 cts y 3 de 1cts?

Tengo _____ €

3. Completa las siguientes oraciones.

- Cuatro décadas equivalen a _____ años.
- Dos siglos tienen _____ años.
- Tres lustros equivalen a _____ años.
- Un semestre son _____ meses.
- Cuatro semanas son _____ días.

4. a) Completa el texto (en letra) según corresponda. Es importante que digas si es de la mañana, tarde o noche.



10:40







Juana se despertó a las _____ de la _____ y se levantó; a las _____ de la _____,

Medidas de tiempo. El euro.

salió de casa. Regresó a las _____ de la _____, después de un largo paseo.

b) Escribe V, si es verdad, o F si es falso.

Salió a comprar el pan a las 12 h y 43 min y se quedó fuera hasta las 14 h y 2 min. Completa los relojes para que marquen la hora exacta en cada caso.

Entró	Salió	Salió	Entró
			
<input type="checkbox"/>	<input type="checkbox"/>	<input type="checkbox"/>	<input type="checkbox"/>

5. Este fin de semana en la juguetería del barrio están de rebaja los libros de Stilton.



1 libro cuesta 8,30€.

Santi quiere comprar 3 libros, Silvia se llevará 4 libros y Javier comprará 7 libros.

¿Cuánto pagarán por sus compras los niños?

Santi pagará _____ €, Silvia pagará _____ € y Javier pagará _____ €.

Si se ponen de acuerdo, entre los tres tendrán que pagar _____ €.

Si compran por separado pagarán _____ €.