

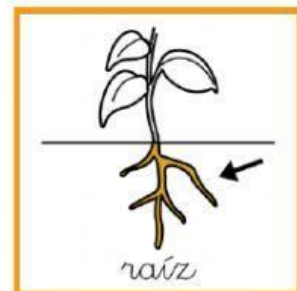
1. Une con flechas cada función de la planta con la parte correspondiente:

FUNCIONES	PARTE DE LA PLANTA
-----------	--------------------

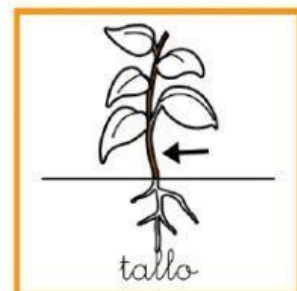
- Parte de la planta que no se suele ver, porque crece bajo el suelo.



- Sostiene la planta y transporta el agua y otras sustancias a todas sus partes.



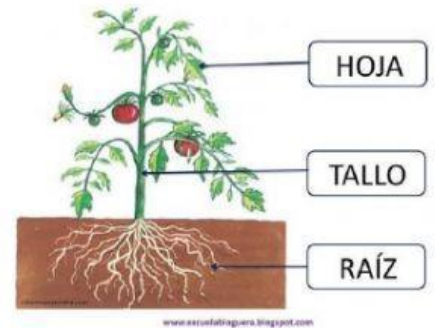
- En ellas las plantas fabrican su alimento.



2. Elige la opción correcta:

- ¿Qué parte de la planta tiene dos funciones: sujetar la planta al terreno y absorber agua y otras sustancias del suelo?

RECUERDA



- ¿Qué parte de la planta se divide en ramas?



- Las partes de la hoja son:

