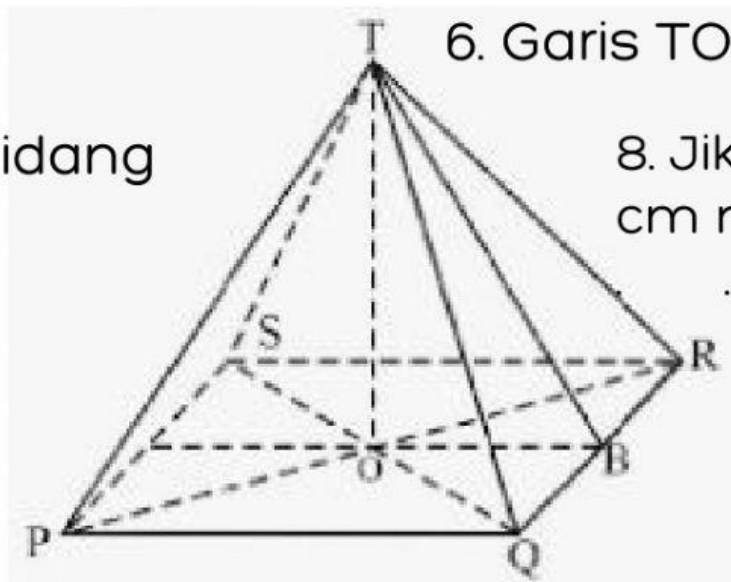


# UNSUR LIMAS



Perhatikan gambar limas persegi dibawah ini



7. Contoh bidang tegak ....

6. Garis TO disebut ....

8. Jika panjang  $PQ=24$  cm maka Panjang OB ..... cm.

1. Memiliki .... buah rusuk .
2. Memiliki .... buah bidang tegak .
3. Memiliki .... buah bidang.
4. Memiliki .... buah titik sudut.
5. Garis TB disebut .....





# LUAS & VOLUME LIMAS

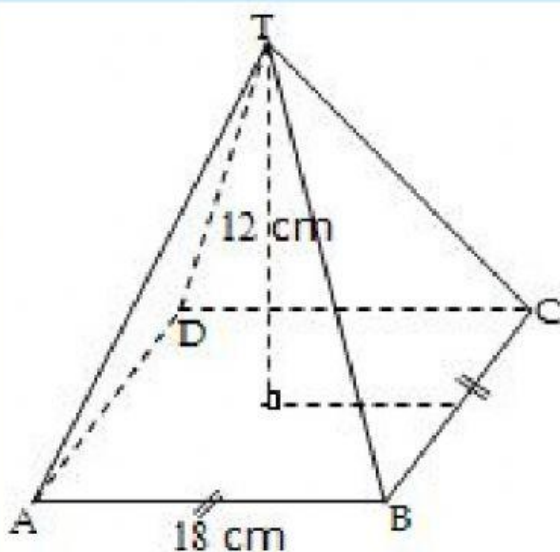


Jawablah pertanyaan dibawah ini

9. Alas sebuah limas berbentuk persegi dengan panjang sisi 12 cm. Bila tinggi limas 9 cm, volum limas adalah ...



10. Perhatikan gambar di bawah! Luas permukaan bangun tersebut adalah ...





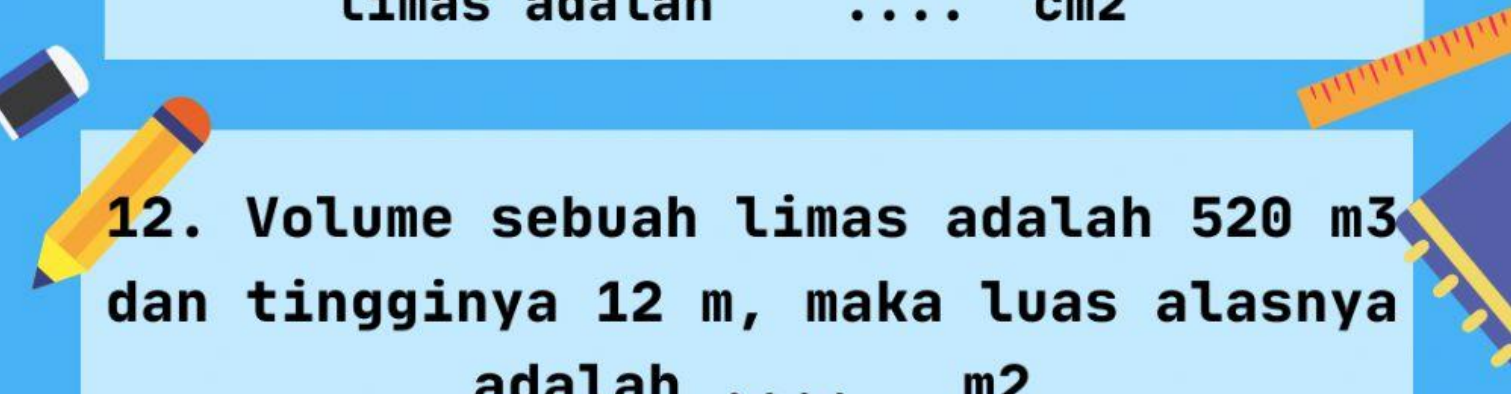
# LUAS & VOLUME LIMAS



Jawablah pertanyaan dibawah ini

11. Sebuah limas mempunyai alas berbentuk persegi.

Keliling alas limas 96 cm, sedangkan tingginya 16 cm. Luas seluruh permukaan limas adalah .... cm<sup>2</sup>



12. Volume sebuah limas adalah 520 m<sup>3</sup> dan tingginya 12 m, maka luas alasnya adalah .... m<sup>2</sup>

