












OSSERVA IL RETICOLO E SCRIVI I NOMI DEGLI ELEMENTI

	A	B	C	D	E	F	G
1							
2							
3							
4							
5							
6							
7							

(A-1)=  (A-5)=

(B-2)=  (C-6)=

(C-4)=  (E-5)=

(E-7)=  (G-4)=

(F-2)=  (B-7)=