

EJERCICIOS

1. Relaciona y arrastra la respuesta correcta.



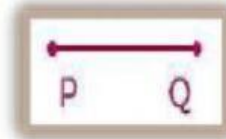

El punto Z



La recta JK



El segmento PQ



2. Coloca dentro del paréntesis el número que le corresponde.

1)



() recta

2)



() rayo

3)



() punto

4)




() plano


3.

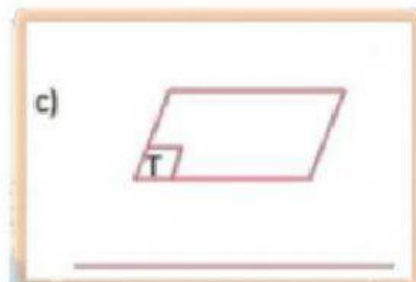
Observa y arrastra al lugar correspondiente.

a)



b)





Recta MN

Segmento RS

Plano T