

RICORDA:

UN TRIANGOLO CON TUTTI I LATI UGUALI SI CHAMA TRIANGOLO EQUILATERO

UN TRIANGOLO CON SOLO 2 LATI UGUALI SI CHIAMA TRIANGOLO ISOSCELE

UN TRIANGOLO CON TUTTI I LATI DISUGUALI SI CHIAMA TRIANGOLO SCALENO

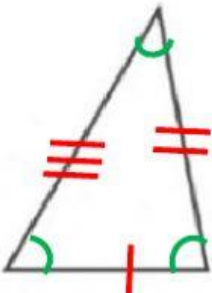
	scaleno	isoscele	equilatero
acutangolo			
rettangolo			
ottusangolo			

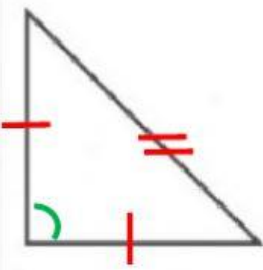
SE UN TRIANGOLO HA UN ANGOLO RETTO SI CHIAMA TRIANGOLO RETTANGOLO

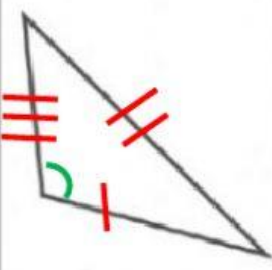
SE UN TRIANGOLO HA 3 ANGOLI ACUTI SI CHIAMA TRIANGOLO ACUTANGOLO

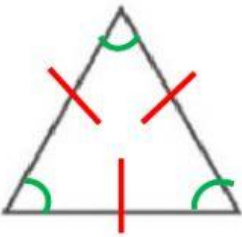
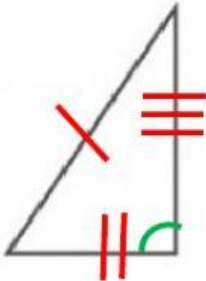
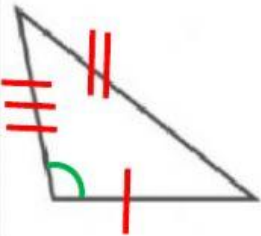
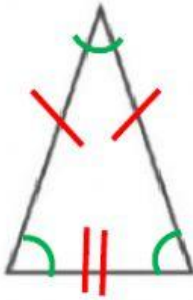
SE UN TRIANGOLO HA UN ANGOLO OTTUSO SI CHIAMA TRIANGOLO OTTUSANGOLO

OSSERVA BENE CIASCUN TRIANGOLO, POI COMPLETA LA SUA CARTA D'IDENTITÀ SEGUENDO L'ESEMPIO:

 <p>Nome triangolo <i>scaleno</i> <i>acutangolo</i></p>	<p>Segni particolari</p> <p>lati:</p> <p><input type="checkbox"/> tutti uguali <input type="checkbox"/> due uguali <input checked="" type="checkbox"/> tutti disuguali</p> <p>angoli:</p> <p><input checked="" type="checkbox"/> tre acuti <input type="checkbox"/> uno ottuso e due acuti <input type="checkbox"/> uno retto e due acuti</p>
---	--

 <p>Nome triangolo <input type="text"/> <input type="text"/></p>	<p>Segni particolari</p> <p>lati:</p> <p><input type="checkbox"/> tutti uguali <input type="checkbox"/> due uguali <input type="checkbox"/> tutti disuguali</p> <p>angoli:</p> <p><input type="checkbox"/> tre acuti <input type="checkbox"/> uno ottuso e due acuti <input type="checkbox"/> uno retto e due acuti</p>
--	--

 <p>Nome triangolo <input type="text"/> <input type="text"/></p>	<p>Segni particolari</p> <p>lati:</p> <p><input type="checkbox"/> tutti uguali <input type="checkbox"/> due uguali <input type="checkbox"/> tutti disuguali</p> <p>angoli:</p> <p><input type="checkbox"/> tre acuti <input type="checkbox"/> uno ottuso e due acuti <input type="checkbox"/> uno retto e due acuti</p>
---	--

 <p>Nome triangolo</p> <p>_____</p> <p>_____</p>	<p>Segni particolari</p> <p>lati:</p> <p><input type="checkbox"/> tutti uguali</p> <p><input type="checkbox"/> due uguali</p> <p><input type="checkbox"/> tutti disuguali</p> <p>angoli:</p> <p><input type="checkbox"/> tre acuti</p> <p><input type="checkbox"/> uno ottuso e due acuti</p> <p><input type="checkbox"/> uno retto e due acuti</p>
 <p>Nome triangolo</p> <p>_____</p> <p>_____</p>	<p>Segni particolari</p> <p>lati:</p> <p><input type="checkbox"/> tutti uguali</p> <p><input type="checkbox"/> due uguali</p> <p><input type="checkbox"/> tutti disuguali</p> <p>angoli:</p> <p><input type="checkbox"/> tre acuti</p> <p><input type="checkbox"/> uno ottuso e due acuti</p> <p><input type="checkbox"/> uno retto e due acuti</p>
 <p>Nome triangolo</p> <p>_____</p> <p>_____</p>	<p>Segni particolari</p> <p>lati:</p> <p><input type="checkbox"/> tutti uguali</p> <p><input type="checkbox"/> due uguali</p> <p><input type="checkbox"/> tutti disuguali</p> <p>angoli:</p> <p><input type="checkbox"/> tre acuti</p> <p><input type="checkbox"/> uno ottuso e due acuti</p> <p><input type="checkbox"/> uno retto e due acuti</p>
 <p>Nome triangolo</p> <p>_____</p> <p>_____</p>	<p>Segni particolari</p> <p>lati:</p> <p><input type="checkbox"/> tutti uguali</p> <p><input type="checkbox"/> due uguali</p> <p><input type="checkbox"/> tutti disuguali</p> <p>angoli:</p> <p><input type="checkbox"/> tre acuti</p> <p><input type="checkbox"/> uno ottuso e due acuti</p> <p><input type="checkbox"/> uno retto e due acuti</p>