

PHIẾU ÔN TẬP TOÁN – TUẦN 21

Luyện tập

1. Đánh dấu ✓ vào ô vuông ở câu đúng.

a) 15 đọc là:

• mười năm

• mười lăm

b) mười tám viết là:

• 108

• 18

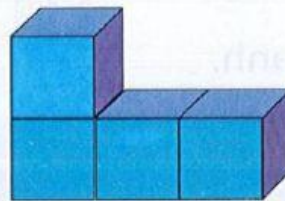

c) số 12 gồm

• 10 và 2

• 1 và 2

2. Em hãy chọn chữ cái trước ý trả lời đúng.

Hình vẽ dưới đây có mấy khối lập phương?

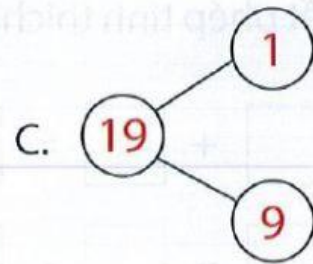
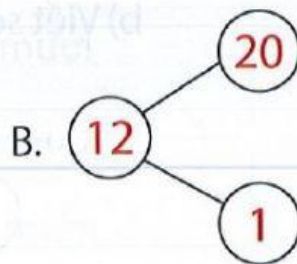
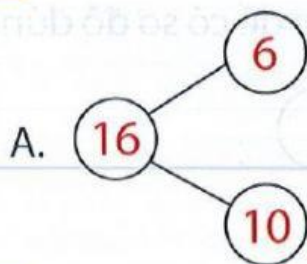


A. 11

B. 10

C. 14

3. Em hãy chọn chữ cái trước sơ đồ đúng.



4. Em hãy chọn chữ cái trước ý trả lời đúng.

?

-

-

15

17

19

?

là số?


A. 9

B. 12


C. 10

5. Em hãy chọn chữ cái trước ý trả lời đúng.


Hình nào có 14 viên kẹo?



A.



B.



C.

6. Đúng ghi đ, sai ghi s vào ô vuông.

$10 + 6 = 16$

$14 + 5 = 18$

$18 - 5 = 3$

$1 + 10 = 20$

$12 + 4 = 15$

$19 - 7 = 12$

$10 + 10 - 10 = 10$

$15 - 5 + 4 = 14$

7. Quan sát tranh.

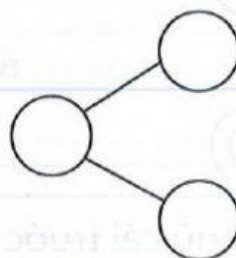


a) Viết phép tính thích hợp.

$\square + \square = \square$

$\square - \square = \square$

b) Viết số thích hợp để có sơ đồ đúng.



8. Em hãy chọn chữ cái trước ý trả lời đúng.

So sánh nào đúng?

A. $17 - 2 > 10 + 3$

B. $12 + 4 < 10 + 5$

C. $1 + 8 = 20 - 10$