





1.- Escribe el número en el que estaba o el número al que llega.

<p>¿En qué número estaba?</p> <div></div>	<p>Me salieron estos puntos</p> <div></div>	<p>Llegue al 44</p> <div></div>
<p>Estoy en el 27</p> <div></div>	<p>Me salieron estos puntos</p> <div></div>	<p>¿A qué número llegaré?</p> <div></div>

2.-Contesta y da un clic sobre la operación que utilizarías para conocer el resultado correcto.

a) Compré un refresco de 26 pesos y unas sabritas de 8 pesos
¿Cuánto pagó en total? R= _____

$26 + 8 =$

$26 - 8 =$

b) Tenía 48 lápices, si vendí 10 ¿Cuántos lápices me quedaron?
R= _____

$48 + 10 =$

$48 - 10 =$

3.-Resuelve las siguientes operaciones

$23 - 3 =$

$34 - 4 =$

$12 - 2 =$

$46 - 6 =$