

## Actividad 2

### Poleas y mecanismos de transmisión circular

**1** Identifica los componentes de una polea y arrástralos hasta su posición correcta

Polea

Cuerda

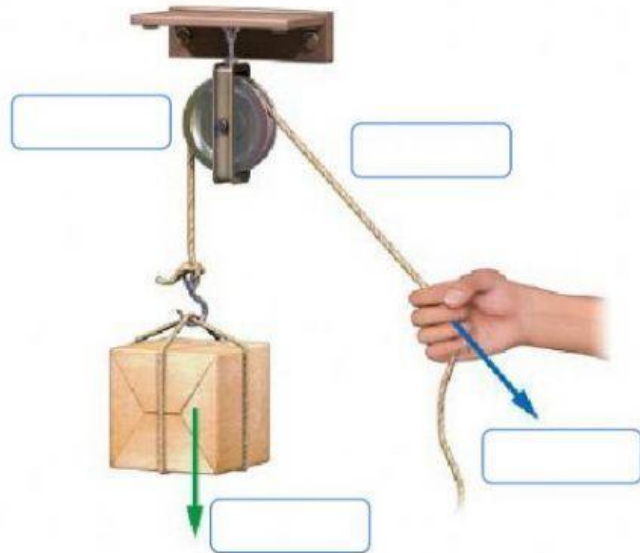
Palanca

Fuerza

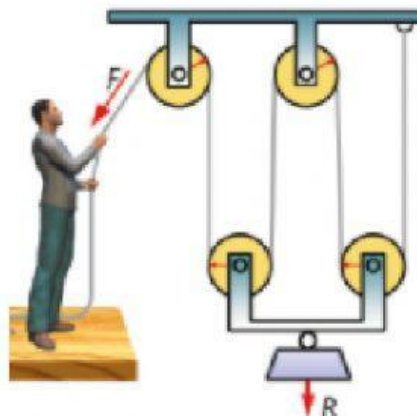
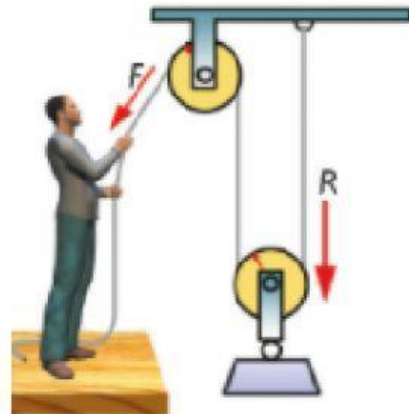
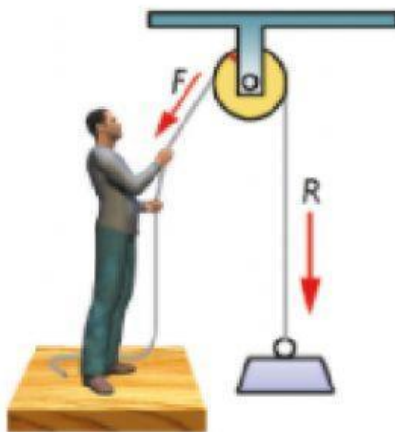
Brazo

Carga

Piñón



**2** Identifica los tipos de poleas y sus fórmulas



**3** Calcula la fuerza mínima que tendremos que hacer con las siguientes poleas y polipastos para levantar un cuerpo de 80N. En cada caso indica de qué tipo de polea se trata

